




### PARTES DE UN TODO

Observa cada figura e identifica los elementos que lo conforman




Todo: \_\_\_\_\_

Elementos \_\_\_\_\_



Todo: \_\_\_\_\_

Elementos \_\_\_\_\_



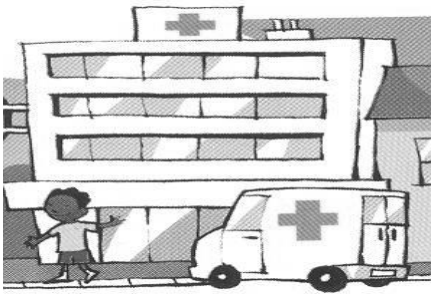
Todo: \_\_\_\_\_

Elementos \_\_\_\_\_



Todo: \_\_\_\_\_

Elementos \_\_\_\_\_



Todo: \_\_\_\_\_

Elementos \_\_\_\_\_



Todo: \_\_\_\_\_

Elementos \_\_\_\_\_



Todo: \_\_\_\_\_

Elementos \_\_\_\_\_



Todo: \_\_\_\_\_

Elementos \_\_\_\_\_



Todo: \_\_\_\_\_

Elementos \_\_\_\_\_

Un **TOD**O es: \_\_\_\_\_

\_\_\_\_\_

Un **ELEM**ENTO es: \_\_\_\_\_

\_\_\_\_\_