




# LA PREDICCIÓN

1. Observa esta imagen, el paisaje presenta cielo encapotado. Predice el tiempo.



.....  
.....  
.....

2. Inti Gas Deportes Ayacucho y Alianza Lima jugarán un partido de fútbol, solamente hay tres posibles resultados, predícelos.

**INTI GAS**

**ALIANZA LIMA**




1. ....  
2. ....  
3. ....

3. Qué actividades prácticas para garantizar tu buena salud. Escribe 5 de ellas.

- 01. ....
- 02. ....
- 03. ....
- 04. ....
- 05. ....

4. Observa esta imagen, el paisaje presenta árboles talados, predice las consecuencias de esta realidad.



.....

.....

.....

5. Completa esta propuesta con la alternativa correcta.

- a) El que cuenta 500 chistes seguidos tiene mucha \_\_\_\_\_  
- Cuerda                      - chispa                      - Fluidez.
- b) El bailarín que se equivoca ha perdido el \_\_\_\_\_  
- Cuerda                      - Compás                      - secuencia.
- c) El personaje que es ejemplo para los demás es un hombre \_\_\_\_\_  
- Apuesto                      - Recto                      - Pulcro.

6. Si a lo largo de las costas del Perú y Ecuador aparece corrientes oceánicas cálidas conocida como “Fenómeno del niño”. Predice qué pasa con la fauna marina.

.....

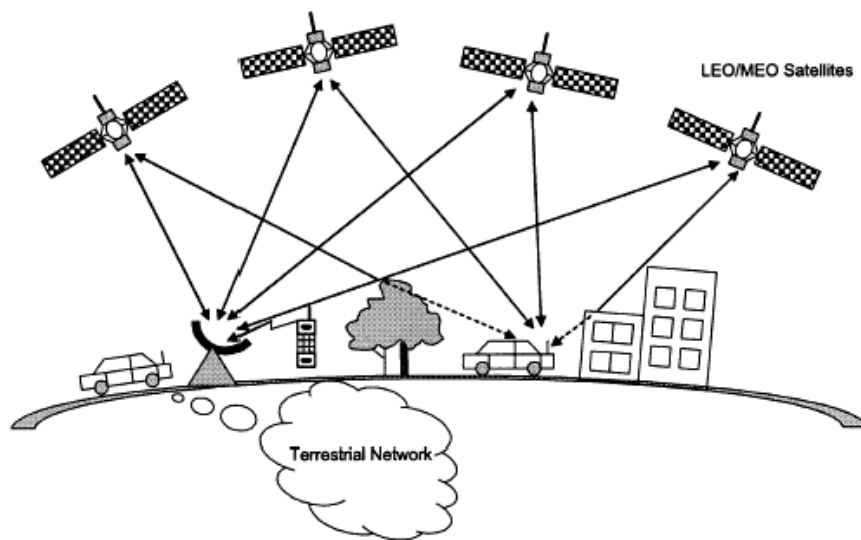
.....

7. Si a lo largo de las costas del Perú y Ecuador aparece corrientes oceánicas frías conocida como “Fenómeno de la niña”. Predice qué pasa con la fauna marina.

.....

.....

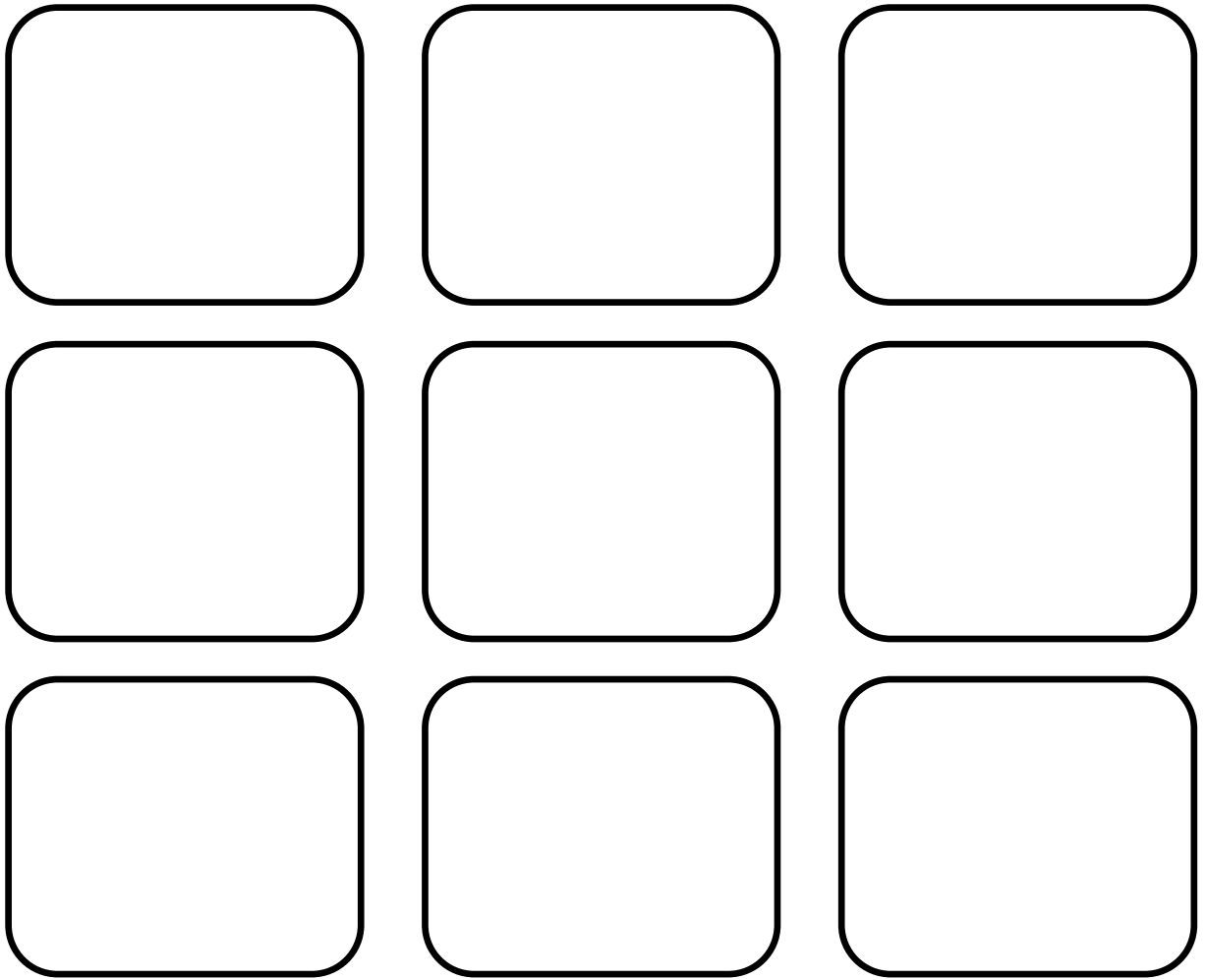
8. Se informa que alrededor de la tierra se encuentran más de tres mil satélites artificiales, ¿Qué pasará con ellos después de muchos años?



.....

.....

9. Dibuja nueve modelos de mesas:



10. ¿Cómo puede definirse una botella de leche de un litro que contiene medio litro de agua?

- a) .....
- b) .....
- c) .....
- d) .....
- e) .....