



## LA COMPARACION

1. Tacha todas las figuras idénticas al modelo en el menor tiempo posible.

□      P b      P b

b P    P b    P P    P b    P b    P b    P P

P b    P b    P P    P b    b P    P b    P b

P b    P P    P b    P P    b P    P b    P b


P b    b P    P b    P P    P b    P b    b P

P P    P P    b P    P b    P b    P P    b P

2. Cada signo corresponde a un número. el problema consiste en reemplazar el signo por el número correspondiente, según el modelo.


	1	2	3	4	5			

3. ¿Cuántas parejas encuentras que estén en el espejo?



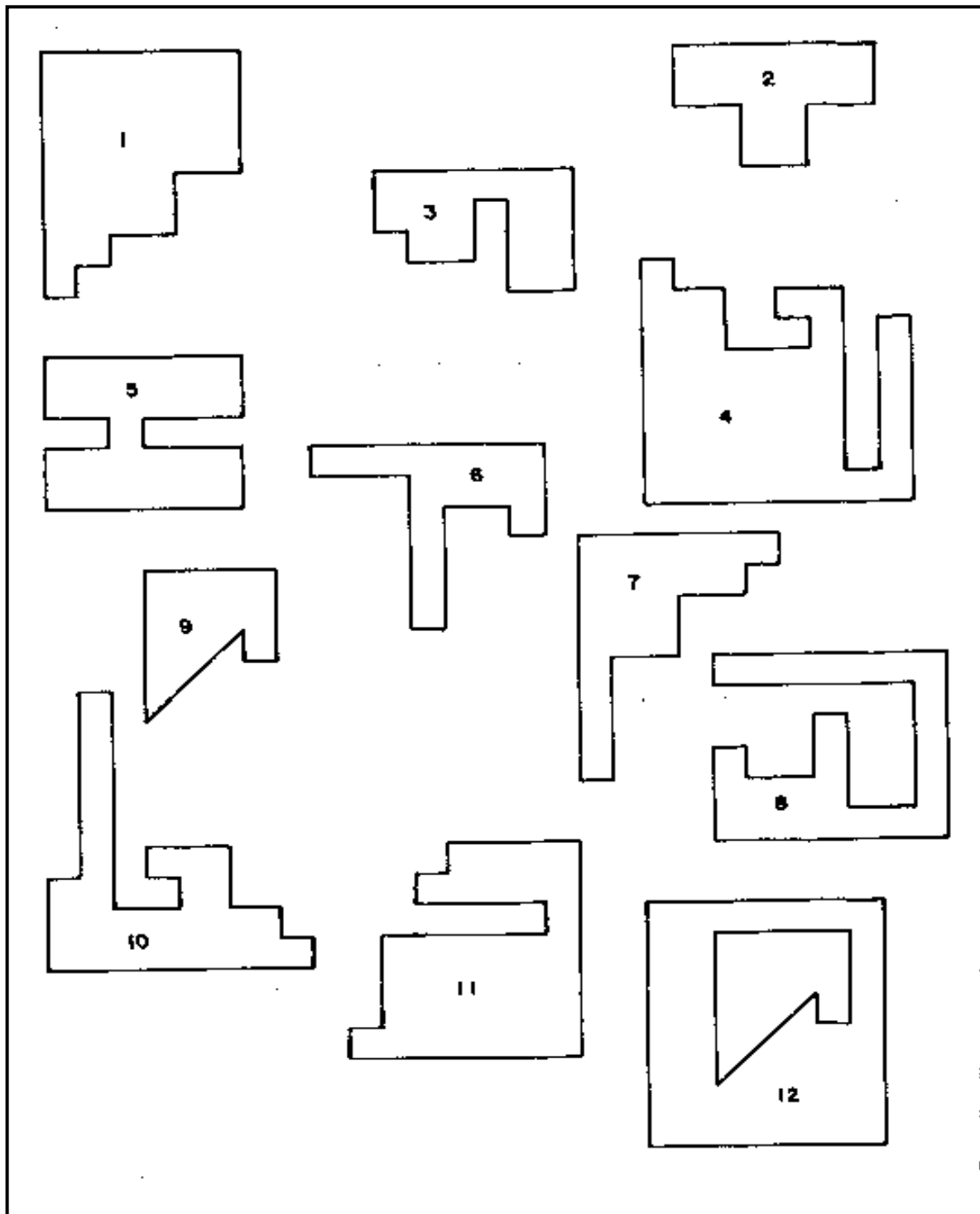
Encontré \_\_\_\_\_ parejas.

4. Descubre cuántos triángulos como el modelo, existen en la siguiente figura.




Existen en total \_\_\_\_\_ triángulos igual al modelo.

5. Corta las siguientes figuras y encaja en la hoja en blanco.




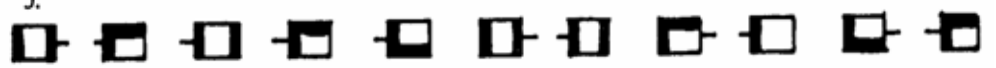
6. En cada fila marca la figura igual a la primera e indica la cantidad.

1.  = \_\_\_\_\_


2.  = \_\_\_\_\_

3.  = \_\_\_\_\_


4.  = \_\_\_\_\_


5.  = \_\_\_\_\_

6.  = \_\_\_\_\_













7.  = \_\_\_\_\_

8.  = \_\_\_\_\_

9.  = \_\_\_\_\_

10.  = \_\_\_\_\_



7. Marca con un aspa (X) las palabras que solamente son sustantivos.

<b>Gallina</b> 	<b>Helados</b> 	<b>Araña</b> 	<b>Coser</b> 
<b>Orar</b> 	<b>Sol</b> 	<b>Casa</b> 	<b>Lápiz</b> 
<b>Estudiar</b> 	<b>Leer</b> 	<b>Copa</b> 	<b>Jugar</b> 

8. Lee las siguientes propuestas y relaciónalas correctamente.


- |             |                |
|-------------|----------------|
| a. Mesa     | cariñosa.      |
| b. Goma     | del comedor.   |
| c. Venas    | de mi madre.   |
| d. Pestañas | Rotas.         |
| e. Retrato  | pegajosa.      |
| f. Lunas    | del corazón.   |
| g. Comida   | de los ojos.   |
| h. Ciudad   | abundante.     |
| i. Aroma    | limpio.        |
| j. Maestra  | de las flores. |

9. Observa al tigre y al león y completa este cuadro.



CUADRO	TIGRE	LEÓN
¿Cuántas patas tiene?		
¿De qué se alimenta?		
¿Sus cuerpos de qué están cubiertos?		
¿Qué tipo de animales son?		
¿Dónde Viven?		

10. Marca las figuras que estén en la misma posición que el modelo.



11. Se proponen una serie de dibujos que deberás reproducir lo más exactamente posible en el recuadro correspondiente.

