



UNIDAD DE MEDIDA

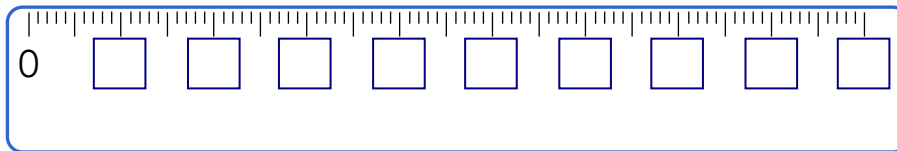
UNIDADES DE LONGITUD

Sabías que:

1. El es la unidad principal de las medidas de longitud.
2. Con el se mide el largo, ancho, altura, la talla, y la profundidad.

1 metro =

Completa y pinta:



TRABAJANDO EN EL AULA

1. Usa el metro y escribe cuanto mide :



cm




cm



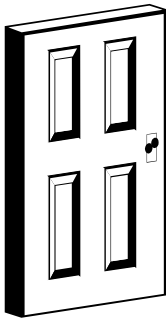
cm



----- cm



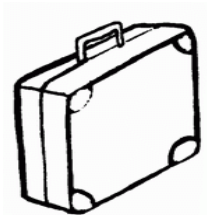
----- cm



----- cm



----- cm



----- cm

TAREA PARA MI...


2. Usando el metro completo lo siguiente :

a.



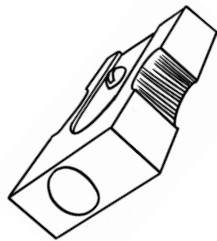
----- cm

b.



----- cm

c.




----- cm

----- cm

PROBLEMAS SOBRE UNIDADES DE LONGITUD.

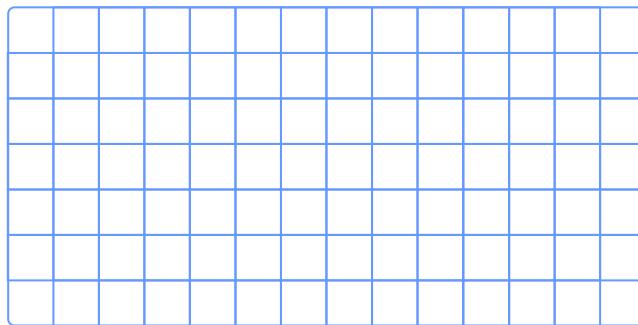
3. Mi cuaderno mide 18 cm de largo y mi lápiz 10 cm. ¿Cuántos centímetros miden entre los dos?

Resolviendo




4. El largo del teclado mide 36cm y el ancho mide 20 cm menos que el largo. ¿Cuántos centímetros mide el ancho?

Resolviendo




5. Una modista necesita comprar 38 m de tela azul y 55 m de tela blanca. ¿Cuántos metros de tela compra en total?

Resolviendo



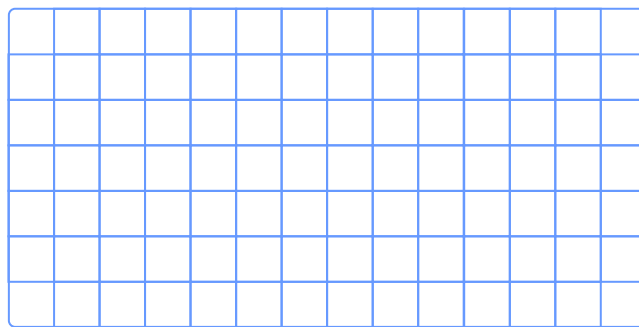
6. Mari Paula compró 156 cm de mayólica A. Si de B compra la mitad de lo que compró de A, ¿cuántos metros compró en total?

Resolviendo




7. Se han asfaltado 590m de una avenida que mide 950m de longitud. ¿Cuántos metros faltan asfaltar?

Resolviendo



8. Patricio utilizó 75m de madera para cercar el corral de sus animales. Si le falta 14m de madera, ¿Cuántos centímetros necesita en total?

Resolviendo




TAREA PARA MI...

1. **Resuelve problemas sobre unidades de longitud :**


2. **Fabricio vende 125m de franela. Si en total tiene 200m, ¿Cuántos metros le quedan?**

Resolviendo



3. **Marcelo corre 200m, descansa y luego corre 150m. Si todavía le falta 95m para llegar a la meta, ¿Cuántos metros correrá en total?**

Resolviendo



4. **Un comerciante vende el día viernes 84cm de plástico, el sábado 65cm. Si dispone de 185cm de plástico, ¿Cuántos centímetros le quedan?**

Resolviendo

