



### TRABAJANDO CON EL MAESTRO

1. Une con una línea el número correspondiente.

2C 4D 8U	124	3C 8D 7U	486
3U 2D 4C	248	8D 4C 6U	561
2D 4U 1C	423	5U 6D 1C	387
	421		165

2. Escribe el signo > , < ó =

- |              |              |              |
|--------------|--------------|--------------|
| • 309    149 | • 350    310 | • 317    371 |
| • 420    440 | • 228    248 | • 524    530 |
| • 526    562 | • 419    440 | • 346    346 |
| • 543    468 | • 628    626 | • 628    670 |

Completa la adición.

3	6	□	+	□	5	□	+	□	6	□	+	5	□	□	+
2	□	7		3	□	8		3	□	8		2	4	8	
□				5				8				□			
	4	6		5	4	3		8	9	9		8	2		

3. Completa la sustracción.

$$\begin{array}{r}
 2 \quad \square \quad 8 \\
 1 \quad 1 \quad \square \\
 \hline
 \square \quad 4 \quad 6
 \end{array}
 -
 \begin{array}{r}
 5 \quad \square \quad 6 \\
 \square \quad 4 \quad \square \\
 \hline
 2 \quad 9 \quad 9
 \end{array}
 -
 \begin{array}{r}
 \square \quad 6 \quad 5 \\
 1 \quad \square \quad 9 \\
 \hline
 3 \quad 7 \quad \square
 \end{array}
 -
 \begin{array}{r}
 7 \quad 4 \quad \square \\
 1 \quad \square \quad 6 \\
 \hline
 \square \quad 9 \quad 9
 \end{array}$$

4. Completa el cuadro.

NÚMERO	EL DOBLE		
246		258	
357		365	
428		472	
546		286	

### Tarea para mi...

1. Une con el número correspondiente:

6C 2U 3D      2C 6U 3D      6U 2D 3C

263      326      236      632

2. Escribe los signos > , < ó = según corresponda.

- 328      382      • 382      485
- 186      205      • 407      407
- 620      602      • 513      531

3. Completa:

$$\begin{array}{r} \square \quad 2 \quad 6 \quad + \\ 2 \quad 5 \quad \square \\ \hline 4 \quad \square \quad 6 \end{array}$$

$$\begin{array}{r} \square \quad 4 \quad 4 \quad + \\ 2 \quad \square \quad 2 \\ \hline 7 \quad 9 \quad \square \end{array}$$

$$\begin{array}{r} 6 \quad 6 \quad \square \quad + \\ 1 \quad \square \quad 6 \\ \hline \square \quad 9 \quad 9 \end{array}$$

$$\begin{array}{r} \square \quad 3 \quad 3 \quad + \\ 6 \quad 8 \quad \square \\ \hline 8 \quad \square \quad 4 \end{array}$$

4. Completa el cuadro.

NÚMERO	EL DOBLE
184	
266	
427	


NÚMERO	EL DOBLE
249	
364	
456	

NÚMERO	MITAD
282	
406	
606	


NÚMERO	MITAD
468	
808	
648	

## Problemas de Adición y Sustracción


1. Mayra tiene 420 soles, Liz tiene 99 soles más que Mayra ¿Cuánto tiene Liz?




2. Carla tiene 350 nuevos soles y Mirco tiene 89 soles menos que Carla. ¿Cuánto tiene Mirco?



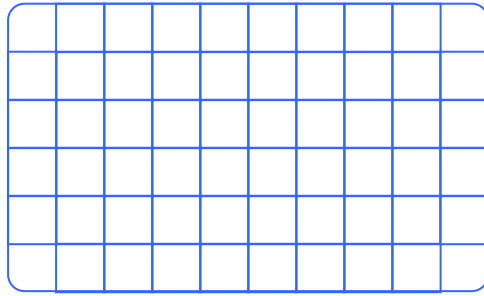
3. Percy gastó 138 soles, Jackie gastó 17 soles más que Percy. ¿Cuántos soles gastan entre los dos juntos?




4. Pablo tiene 348 soles y Luis tiene el doble de Pablo ¿Cuánto tiene Luis?




5. Marcos tiene 256 soles y Fidel tiene el doble, ¿cuánto le falta a Fidel para tener 800 soles?



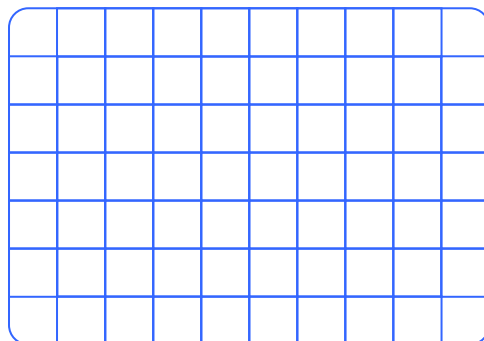
6. Tengo 240 soles y luego gano el doble. Si tengo una deuda de 500 soles, ¿me falta o me sobra? ¿Cuánto?




7. En mi huerto hay 128 manzanos si mi vecino tiene 86 manzanos más. ¿Cuántos manzanos tiene mi vecino?




8. Mi madre tiene en el banco 358 dólares pero mi padre tiene el doble. ¿Cuánto tiene mi padre?



9. Martha quiere comprar una bicicleta que cuesta S/. 250 y le falta S/. 92, ¿cuánto tiene Martha?



10. En el cine Cavero para una función ingresaron 274 adultos y 89 niños. ¿Cuántas personas hay en total?



Tarea para mi...

1. Betty desea comprar un televisor que cuesta S/. 486, pero al llegar a la tienda le dicen que cuesta S/. 96 más. ¿Cuánto cuesta el televisor?

Respuesta:


2. La señora Julia recibe de sueldo S/. 750, si gasta 168 soles para pagar el consumo de luz y agua. ¿Cuánto le queda?

Respuesta:




3. Halla la suma del mayor y menor número de 3 cifras diferentes que se puede formar con las cifras:

5, 7 y 9



4. Halla la diferencia de:

500 - 298




5. Halla las cifras que faltan:

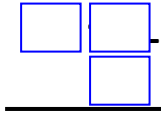
$$\begin{array}{r} \triangle 36 + \\ 3 \bigcirc 5 \\ \hline 82 \square \end{array}$$

Y Halla:  $+\triangle + \bigcirc \square$

6. Miguel tiene 164 soles y María tiene 247 soles más. ¿Cuánto tienen los dos juntos?

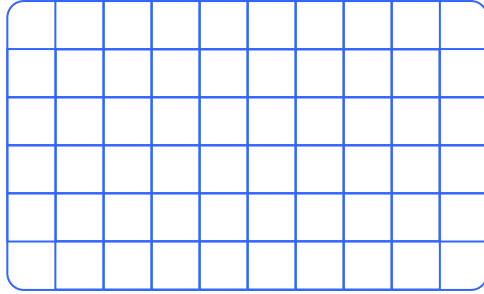


7. Se colocan los dígitos 5, 7 y 9 en cada cuadrado sin repetir el dígito Halla la mayor diferencia que se pueda obtener.




8. Cuál de los siguientes enunciados es correcto:

- I) El doble de 148 es 256  
II) El doble de 243 es 486.



- A) Sólo I                      B) Sólo II  
C) I y II                      D) Ninguno  
E) Faltan datos

9. Cuál de los siguientes números es el mayor.



- A. 1U 2D 8C  
B. 8D 1C 2U  
C. 1D 8U 2C  
D. 8C 1D 2U

10. Según el orden los signos que faltan para que sean correctos son:

• 429      442

• 588      528

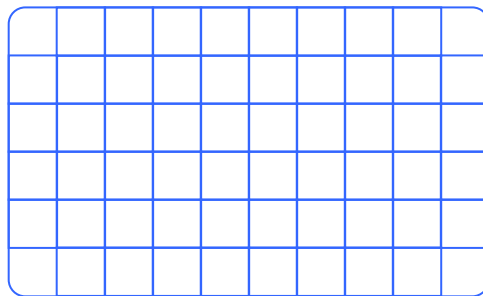
• 307      370

A) <;>; <                      B) <; >; >

C) >;>;<                      D) <; <, <

E) >; >; >

11. Tengo 46 soles y mi hermano Percy tiene 85 soles más y mi hermana Lucy tiene el doble de Percy.  
¿Cuánto tiene Lucy?



A) S/. 196


B) S/. 131

C) S/. 262

D) S/. 420

E) S/. 323

12. Julio tiene 50 años y su hijo Joe 28 años menos. ¿Qué edad tiene Joe?



A) 32

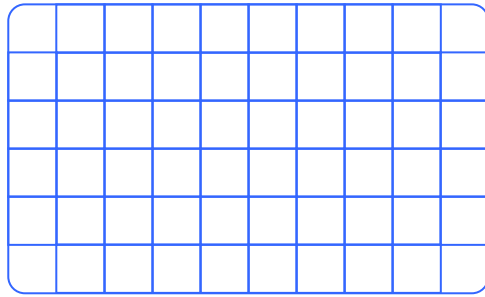
B) 12

C) 78

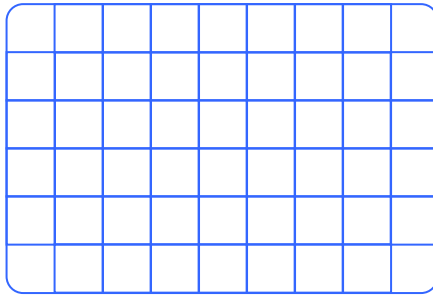
D) 22

E) 44


13. José tiene 148 soles y Pablo 86 soles más que Jose. ¿Cuántos soles tienen los dos juntos?




14. Jhon tiene 140 soles y su amigo Félix tiene S/. 25 menos que Jhon. ¿Cuánto tienen los dos?




15. Bertha tiene 240 soles y Karen tiene 100 soles más que Bertha, Giovanna tiene 100 soles menos que Bertha. ¿Cuánto tienen entre las tres juntas?




16. Josue tiene 56 cromos y Alfredo tiene el doble. ¿Cuántos cromos tienen los dos juntos?



17. En mi colegio hay 124 mujeres y el número de varones es el doble más 100. ¿Cuántos alumnos hay en total?



18. Un alumno hizo el lunes 14 ejercicios, el martes el doble y el miércoles el doble de lo que hizo el martes. ¿Cuántos ejercicios resolvió el miércoles?




#### TAREA PARA MI...

1. El número correspondiente a :

**8U 4D 6C**

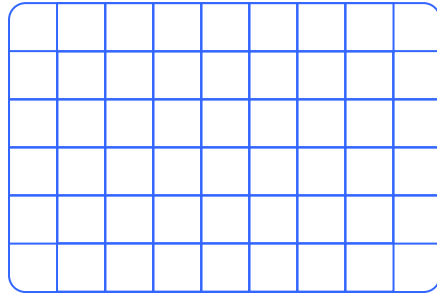
- A) 846      B) 864      C) 648  
D) 684      E) 466

2. Halla la suma del anterior y posterior de 640.




- A) 640      B) 840      C) 1250  
D) 1280      E) 1380

3. **María tiene 24 años, su padre tiene 19 años más. ¿Qué edad tiene el padre?**




- A) 41      B) 52      C) 50      D) 51      E) 43

4. **La semana pasada gané 86 soles esta semana gané el doble ¿Cuánto gané en estas dos semanas?**



- A) S/. 254      B) S/. 264      C) S/. 152      D) S/. 258  
E) S/. 314

5. **En el carnaval Ayacucho\_ no la primera comparsa que pasó esta formada por 44 personas pero la según\_ da comparsa tenía el doble de personas más 90. ¿Cuántos conformaban la segunda comparsa?**



- A) 184      B) 222      C) 178      D) 186      E) 182