




SUMAS DE NUMEROS NATURALES

Números Menores que 60 (Llevando)

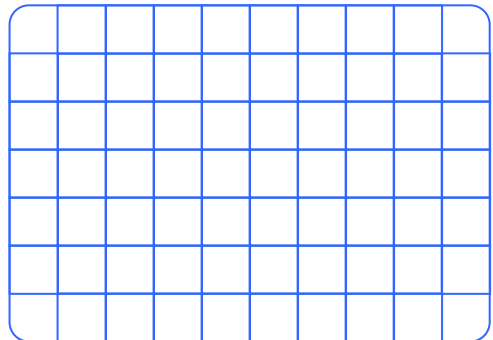
Observa los artículos con sus precios respectivos.



¿Cuánto costará una lonchera y un maletín?



¿Cuánto pagaré por una lonchera y una mochila?



TRABAJANDO EN EL AULA

1. Efectúa la adición:

$$\begin{array}{r} \bigcirc \\ 24 \\ + 19 \\ \hline \end{array}$$

$$\begin{array}{r} \bigcirc \\ 36 \\ + 18 \\ \hline \end{array}$$

$$\begin{array}{r} \bigcirc \\ 37 \\ + 17 \\ \hline \end{array}$$

$$\begin{array}{r} \bigcirc \\ 19 \\ + 29 \\ \hline \end{array}$$

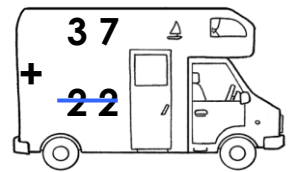
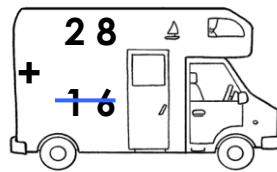
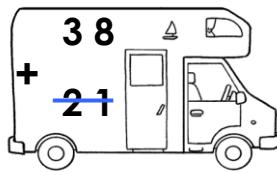

$$\begin{array}{r} \bigcirc \\ 36 \\ + 18 \\ \hline \end{array}$$

$$\begin{array}{r} \bigcirc \\ 28 \\ + 25 \\ \hline \end{array}$$

$$\begin{array}{r} \bigcirc \\ 29 \\ + 24 \\ \hline \end{array}$$

$$\begin{array}{r} \bigcirc \\ 36 \\ + 17 \\ \hline \end{array}$$

2. Colorea los carritos cuyo resultado sea mayor que 50.



3. Une cada operación con su resultado:

$$26 + 28$$

$$45$$

$$26 + 19$$

$$57$$

$$26 + 17$$

$$58$$

$$40 + 14$$

$$48$$

$$19 + 39$$

$$43$$

$$32 + 25$$

$$45$$

$$54$$

$$54$$

4. Escribe los números que van en el . 

$$\cdot 34 + \quad = 48$$

$$\cdot 26 + \quad = 43$$

$$\cdot \quad + 27 = 56$$

$$\cdot \quad + 20 = 51$$

$$\cdot 26 + \quad = 47$$

$$\cdot 38 + \quad = 46$$

$$\cdot \quad + 18 = 52$$

$$\cdot \quad + 23 = 49$$

5. Suma y ordena los resultados de mayor a menor:

$$\begin{array}{r} 29 \\ + 29 \\ \hline \end{array}$$

$$\begin{array}{r} 36 \\ + 14 \\ \hline \end{array}$$

$$\begin{array}{r} 48 \\ + \quad 9 \\ \hline \end{array}$$

$$\begin{array}{r} 55 \\ + 12 \\ \hline \end{array}$$

$$\begin{array}{r} 32 \\ + 13 \\ \hline \end{array}$$

$$\begin{array}{r} 19 \\ + 25 \\ \hline \end{array}$$

$$\begin{array}{r} 34 \\ + 20 \\ \hline \end{array}$$

$$\begin{array}{r} 19 \\ + 28 \\ \hline \end{array}$$

Ordenando es:

> > > > > > >

TAREA PARA MI...

1. Efectúa la adición:

$$\begin{array}{r} 28 \\ + 14 \\ \hline \end{array}$$

$$\begin{array}{r} 27 \\ + 18 \\ \hline \end{array}$$

$$\begin{array}{r} 39 \\ + 15 \\ \hline \end{array}$$

$$\begin{array}{r} 16 \\ + 15 \\ \hline \end{array}$$


$$\begin{array}{r} 19 \\ + 32 \\ \hline \end{array}$$

$$\begin{array}{r} 26 \\ + 27 \\ \hline \end{array}$$

$$\begin{array}{r} 28 \\ + 30 \\ \hline \end{array}$$

$$\begin{array}{r} 26 \\ + 19 \\ \hline \end{array}$$

2. Colorea las peras cuyo resultado sea mayor de 49.



3. Une cada operación con su resultado:

$$\begin{array}{r} 26 \\ + 19 \\ \hline \end{array}$$

$$\begin{array}{r} 33 \\ + 19 \\ \hline \end{array}$$

$$\begin{array}{r} 14 \\ + 28 \\ \hline \end{array}$$



4. Escribe los números que van en el



$$\cdot 22 + \quad = 46$$

$$\cdot \quad + 18 = 40$$

$$\cdot 27 + \quad = 58$$

$$\cdot \quad + 26 = 47$$

$$\cdot \quad + 29 = 52$$

$$\cdot 23 + \quad = 52$$

5. Une con una línea según corresponda:

$$24 + 16$$

$$32 + 19$$

$$23 + 29$$

51

52

40

47

$$26 + 19$$

$$32 + 9$$

$$16 + 37$$

41

53

45

49

$$29 + 18$$

$$17 + 25$$

$$16 + 29$$

45

32

47

42