


1. Si: 14 ; 16 ; 18 ; ;
El valor de: + es:

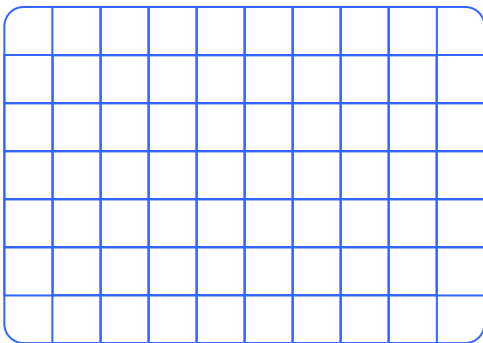
- A)20 B)22 C)40 D)42 E)44



2. ¿Qué número continúa?

5 ; 7 ; 10 ; 12 ;

- A)12 B)13 C)14 D)15 E)16



3. ¿Cuál es el número que continúa?
10 ; 13 ; 18 ; 25 ;


- A)34 B)33 C)32 D)31 E)30



4. ¿Cuál es el término que sigue en la sucesión?

19 ; 26 ; 39 ; 58 ;


- A)82 B)83 C)84 D)85 E)86



5. El término que continúa es:

84 ; 76 ; 70 ; 66 ;

- A)60 B)62 C)64 D)58 E)56



6. ¿Qué número sigue?

1 ; 1 ; 2 ; 3 ; 5 ; 8 ; 13 ;

- A)15 B)17 C)21 D)19 E)18

