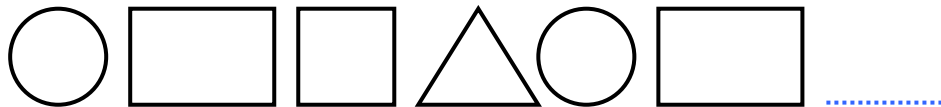




SUCESIONES DE FIGURAS GEOMETRICAS

La Sucesión: Es una secuencia de elementos que mantienen un orden determinado.

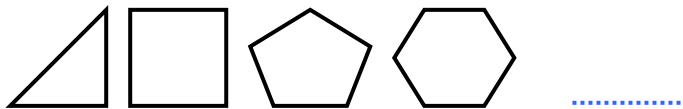
1. OBSERVA Y CONTINÚA LA SUCESIÓN.



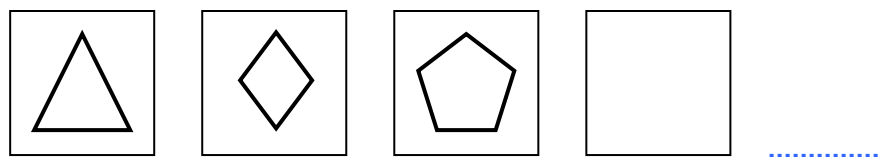
2. pinta las figuras como sigue.



3. ¿Qué figura sigue?



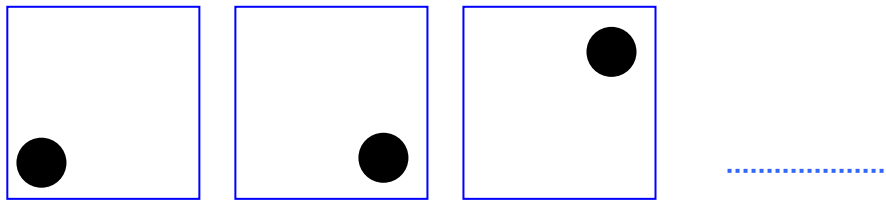
4. Dibuja la figura que sigue



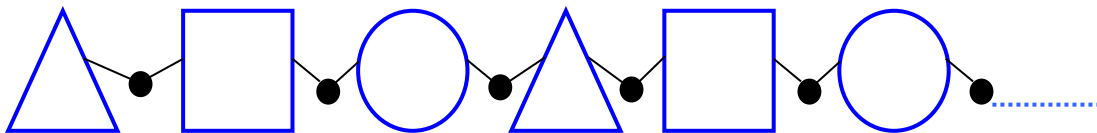
5. ¿Cuál es la figura que continúa? dibújalo



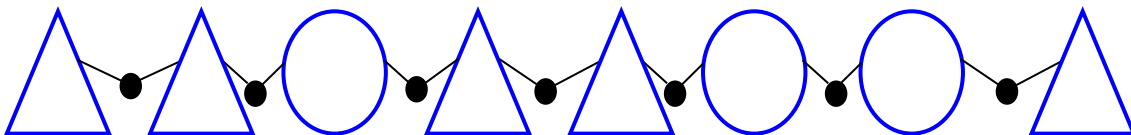
6. Dibuja la figura que sigue



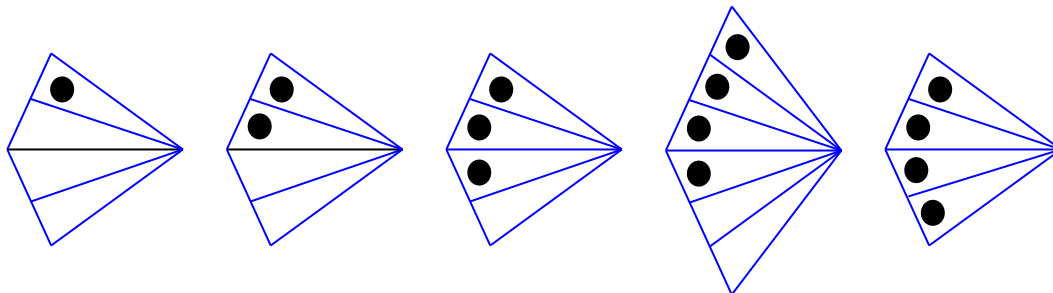
7. Dibuja la figura que sigue




8. ¿Qué figura malogra la secuencia? Táchalo



9. ¿Qué figura malogra la secuencia? Táchalo



10. ¿Qué figura continúa la secuencia? Dibújalo



TAREA para mi...

1. Dibuja la figura que continúa en la sucesión:

