



SUCESIONES CRECIENTES - DECRECIENTES

Observo en mi familia que la edad de mis abuelos es 75 años, de mi padre es 50 años, de mi madre 46 años, de mi hermana mayor es 20 años y yo tengo 8 años.

Si ordeno las edades en forma **creciente** sería así:

Y al ordenar en forma **decreciente** sería:

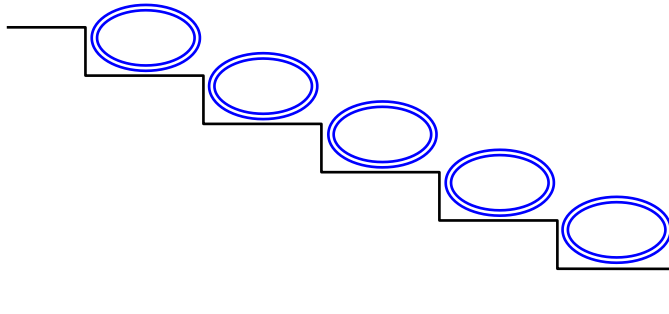
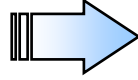
TRABAJANDO EN EL AULA

1. Ordena los siguientes números en forma ascendente:

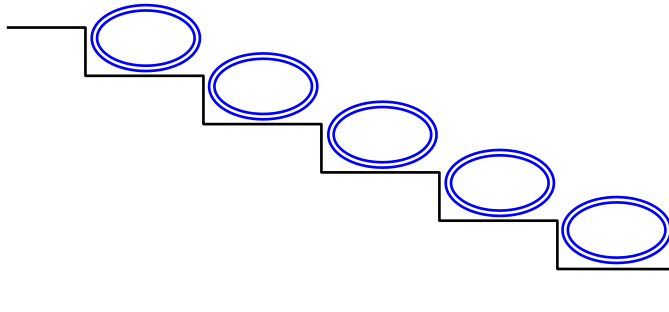
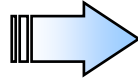
62	19	34	72	48	52
→	→	→	→	→	→
70	50	61	47	23	41
→	→	→	→	→	→
63	68	25	46	33	10
→	→	→	→	→	→

2. Ordena los siguientes números en forma decreciente:

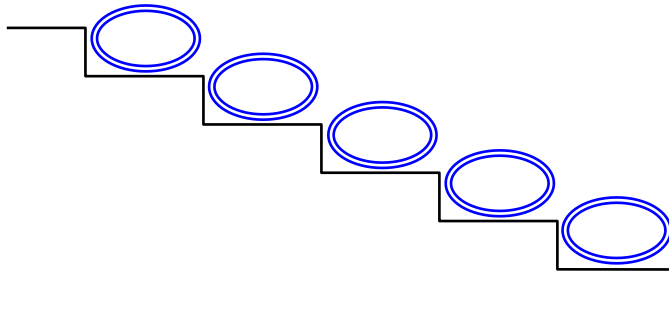
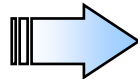
32
68
71
52
30



19
76
46
60
26



20
62
48
77
50



3. Tacha el número que no corresponde para que los números estén ordenados en forma ascendente:

• 30 50 41 46 69 76


• 16 21 23 22 31 45

• 20 26 23 39 41 62


• 36 58 66 67 60 70

4. Ordena de mayor a menor "forma decreciente".


60 75 48 36 59




72 52 30 48 64



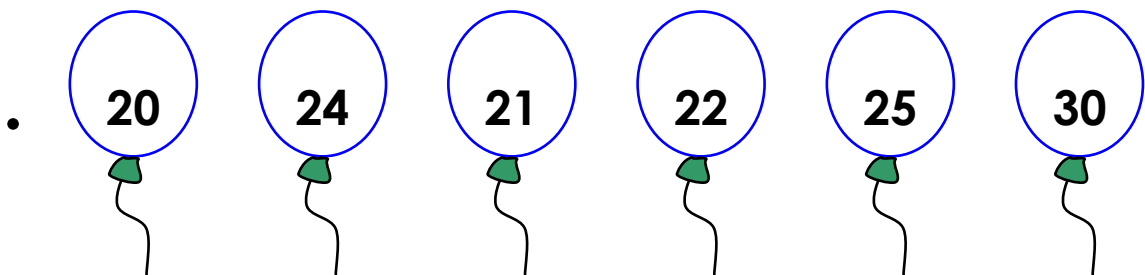
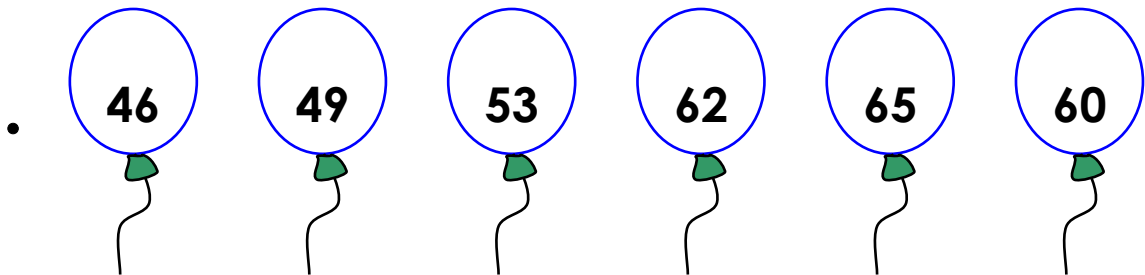
17 20 43 60 76

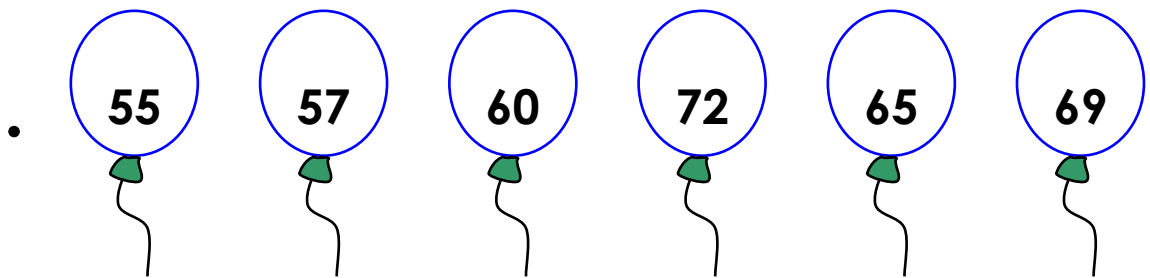
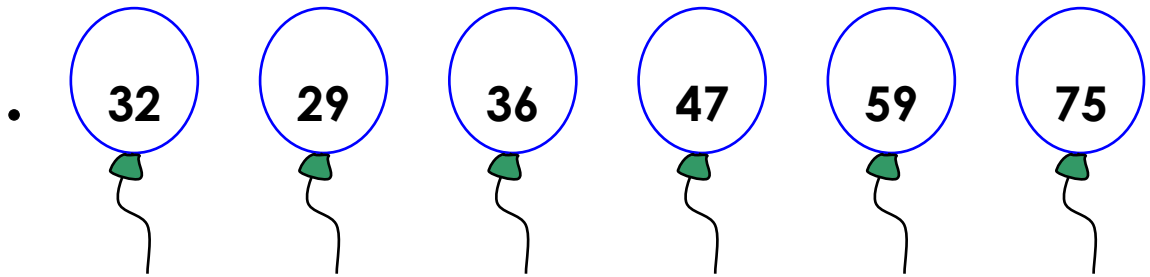
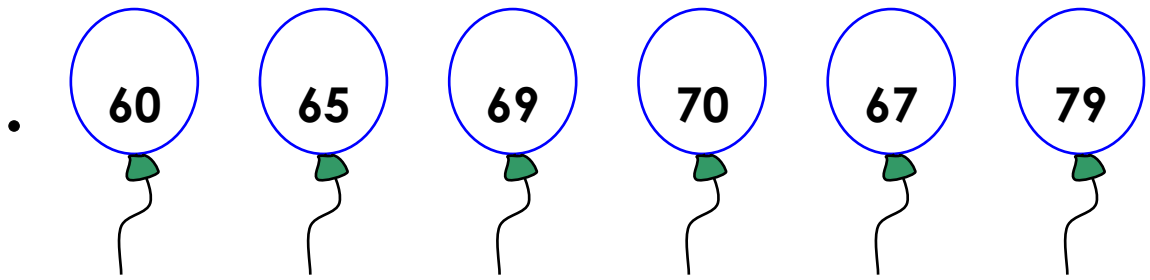


26 41 30 65 71



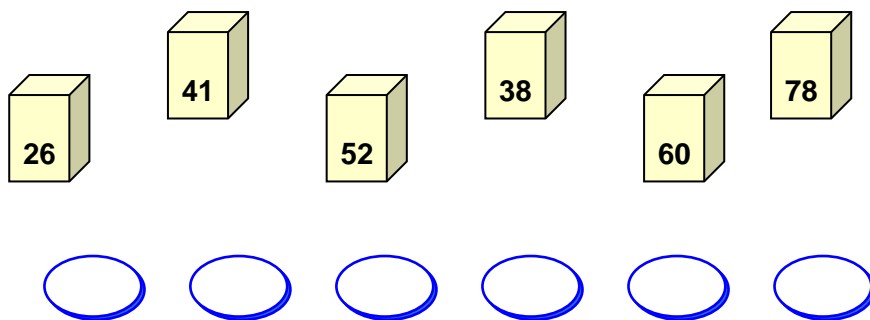
5. Colorea el número que no corresponde para que los números estén ordenados en forma creciente:



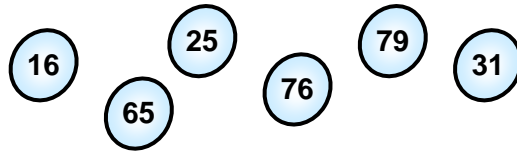


TAREA PARA MI...

1. **Escribe los números en orden creciente :**

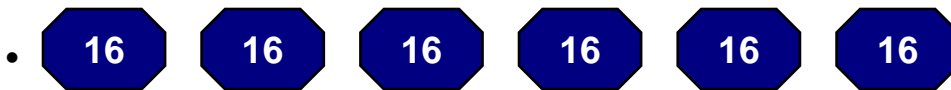
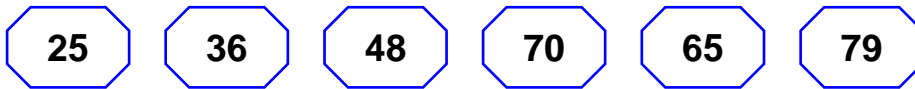
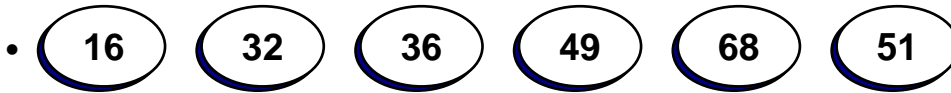


2. Escribe los números en orden decreciente:



□ □ □ □ □ □

3. Pinta el número que no corresponde para que los números estén ordenados en forma creciente:



4. Escribe los números que faltan para que estén en forma decreciente:

- 68 ; 65 ; 62 ; ; ; ; ; 47
- 75 ; 65 ; 55 ; ; ; ; ; 5
- 80 ; 70 ; 60 ; ; ; ; ; 10
- 94 ; 90 ; 81 ; ; ; ; ; ; 62

5. Escribe los números que faltan para que estén ordenados en forma creciente:

- 24 ; ; ; ; ; ; 48 ; 52
- 10 ; ; ; ; ; ; 70 ; 80
- 5 ; 10 ; 15 ; ; ; ; ; 40 ; 45
- 20 ; 23 ; ; 29 ; ; 35 ; ; 41 ;