



RECORDEMOS LO APRENDIDO

1. Efectúa en tu cuaderno las siguientes adiciones:

• $405 + 347 = \dots\dots\dots$

• $184 + 369 = \dots\dots\dots$

• $649 + 158 = \dots\dots\dots$

• $389 + 426 = \dots\dots\dots$

• $248 + 569 = \dots\dots\dots$

• $537 + 246 = \dots\dots\dots$

2. Halla la diferencia en cada caso:

• $247 - 168 = \dots\dots\dots$

• $400 - 246 = \dots\dots\dots$


• $500 - 249 = \dots\dots\dots$

• $606 - 328 = \dots\dots\dots$

• $625 - 357 = \dots\dots\dots$

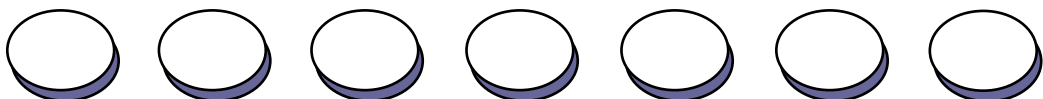
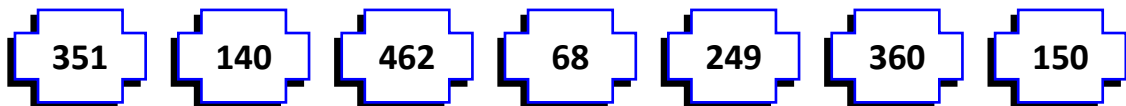
• $410 - 196 = \dots\dots\dots$

3. Ordena los números en forma ascendente



--	--	--	--	--	--	--	--

4. Ordena los números en forma descendente.



5. Escribe las cifras que faltan para que se cumpla la relación:

• $299 < \quad 00$

• $465 =$

• $301 > 3$

• $526 < 52$

• $629 < 6 \quad 0$

• $12 \quad > 128$

• $67 \quad < 680$

• $7 \quad = 789$

• $8 \quad 4 > 884$

• $3 \quad 0 > 345$

Tarea para mí...

1. Realiza en tu cuaderno las siguientes adiciones.

• $325 + 147 = \dots\dots\dots$

• $346 + 153 = \dots\dots\dots$

• $528 + 312 = \dots\dots\dots$

• $203 + 628 = \dots\dots\dots$

• $504 + 196 = \dots\dots\dots$

• $169 + 531 = \dots\dots\dots$

2. Halla la diferencia de:

• $520 - 246 = \dots\dots\dots$

• $600 - 168 = \dots\dots\dots$

• $500 - 342 = \dots\dots\dots$

• $460 - 286 = \dots\dots\dots$

• $900 - 244 = \dots\dots\dots$

• $800 - 481 = \dots\dots\dots$

3. Escribe las cifras que faltan para que se cumpla la relación.

• $431 = \quad 31$

• $351 > 35$

• $128 < 12$

• $918 > 9 \quad 8$

• $899 < \quad 00$

• $142 =$

• $307 < 30$

• $548 < 54$

• $101 >$

• $991 <$