



REAFIRMANDO LO QUE APRENDIMOS

1. Colorea de rojo los números menores que 325.

354 263 279 325 218 362

407 280 123 326 444 460

2. Al ordenar los números de menor a mayor obtenemos la frase.

A → 98	I → 338	S → 118
B → 300	M → 212	U → 264
E → 426	N → 499	V → 64
	Y → 299	

3. Determina la diferencia en cada caso:

362 -	485 -	350 -	474 -
<u>275</u>	<u>196</u>	<u>148</u>	<u>395</u>

4. Completa las cifras que faltan.

$$\begin{array}{r} \square 4 3 \\ + 1 \square 8 \\ \hline 6 7 \square \end{array}$$

$$\begin{array}{r} 1 5 \square \\ + 2 \square 8 \\ \hline \square 0 1 \end{array}$$

$$\begin{array}{r} \square 2 \square \\ + 5 \square 7 \\ \hline 7 1 8 \end{array}$$

$$\begin{array}{r} 6 \square 3 \\ + \square 8 \square \\ \hline 9 3 7 \end{array}$$

$$\begin{array}{r} \square 4 \square \\ + 3 \square 8 \\ \hline 6 0 1 \end{array}$$

$$\begin{array}{r} 3 9 3 \\ + \square 3 \square \\ \hline 9 \square 0 \end{array}$$

5. Completa las sustracciones.

$$\begin{array}{r} 2 4 5 \\ - 1 \square 4 \\ \hline \square 7 \square \end{array}$$

$$\begin{array}{r} 3 4 \square \\ - 1 7 4 \\ \hline \square \square 7 \end{array}$$

$$\begin{array}{r} 5 0 \square \\ - 2 \square 4 \\ \hline \square 2 6 \end{array}$$

$$\begin{array}{r} 7 4 3 \\ - 3 8 \square \\ \hline \square \square 8 \end{array}$$

$$\begin{array}{r} 3 \square 4 \\ - 1 2 \square \\ \hline \square 7 5 \end{array}$$

$$\begin{array}{r} \square 5 3 \\ - 3 \square 6 \\ \hline 2 7 \square \end{array}$$

$$\begin{array}{r} 4 \square 0 \\ - 2 9 \square \\ \hline \square 5 2 \end{array}$$

$$\begin{array}{r} \square 6 \square \\ - 8 0 4 \\ \hline 1 \square 7 \end{array}$$

TAREA PARA MI...

Colorea de verde los números menores que 200 y de amarillo los números mayores que 300.



1. Al ordenar los números en forma descendente obtenemos la frase.

C → 631	A → 526	P → 284
B → 947	N → 212	M → 302
E → 242	O → 213	I → 824


2. Completa.

$\begin{array}{r} 2 \square 6 \\ + 1 3 4 \\ \hline \square 2 0 \end{array}$	$\begin{array}{r} \square 2 5 \\ + 3 \square 9 \\ \hline 6 1 \square \end{array}$	$\begin{array}{r} 5 2 8 \\ + 3 9 \square \\ \hline 9 \square 3 \end{array}$	$\begin{array}{r} 2 \square 6 \\ + 3 4 \square \\ \hline \square 0 5 \end{array}$
-----------------------------------------------------------------------------	-----------------------------------------------------------------------------------	-----------------------------------------------------------------------------	-----------------------------------------------------------------------------------


3. Encuentra las cifras escondidas.

$\begin{array}{r} \square 6 7 \\ - 4 \square 8 \\ \hline 4 3 \square \end{array}$	$\begin{array}{r} \square 4 \square \\ - 6 8 6 \\ \hline 2 \square 4 \end{array}$	$\begin{array}{r} 5 2 \square \\ - 1 \square 8 \\ \hline \square 3 6 \end{array}$	$\begin{array}{r} 5 \square 2 \\ - \square 6 8 \\ \hline 3 5 \square \end{array}$
-----------------------------------------------------------------------------------	-----------------------------------------------------------------------------------	-----------------------------------------------------------------------------------	-----------------------------------------------------------------------------------

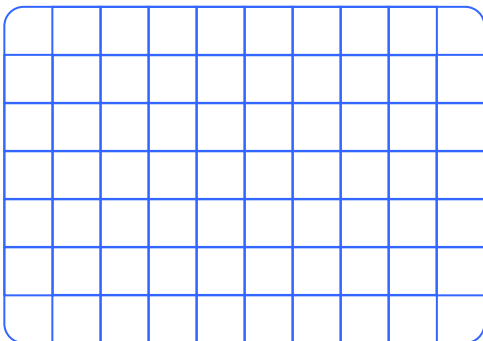
7. En un video juego primero gané 150 puntos luego 220 puntos y finalmente perdí 123 puntos. ¿Cuántos puntos me quedan?




8. En un tren eléctrico viajan 465 pasajeros en el primer paradero bajan 104 pasajeros en el segundo paradero bajan 217 pasajeros. ¿Cuántos pasajeros llegan al tercer paradero?



9. Micki tenía S/. 200, luego recibió S/. 100, al comprar un pantalón gasta S/. 90, al comprar una camisa paga S/. 70 y al comprar un zapato pagó S/. 117. ¿Cuánto le queda?



10. El sábado fui de compras con mi padre al Maxi, llevamos S/. 500 y los gastos ascendieron a S/. 327. ¿Cuánto nos dieron de vuelto?



TAREA PARA MI...

Problemas de adición y sustracción.

1. Luis tiene 260 soles y Flavio 20 soles menos. ¿Cuánto tienen los dos juntos?

Respuesta:

2. José tiene 312 puntos y Jorge tres decenas menos. ¿Cuántos puntos tiene Jorge?

Respuesta:

3. En el puesto N° 6 se contaron 478 manzanas y en el puesto N° 10 había una centena más de manzanas. ¿Cuántas manzanas tiene el puesto N° 10?

Respuesta:

4. Del sueldo de un obrero que asciende a S/. 500 gasta en luz S/. 114 y en pasajes S/. 48. ¿Cuánto le queda?

Respuesta: