




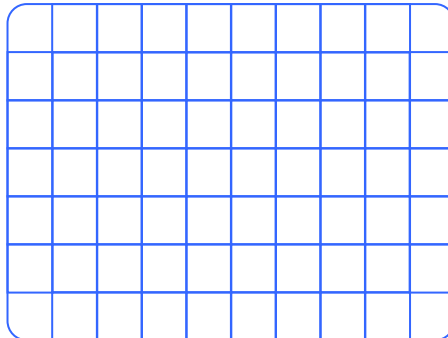
PROBLEMAS DE SUMA Y RESTA

TRABAJANDO EN EL AULA

1. Miguel tiene 52 figuritas y Max 35 figuritas. ¿Cuántas figuritas tienen entre los dos?
Solución:

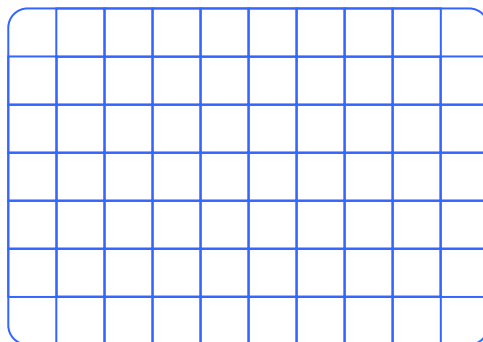


2. Ana tiene S/.25 y desea comprar un pantalón que cuesta S/. 70, ¿cuán_ to le falta?
Solución:




3. Si una falda me cuesta S/.35 y una blusa de seda vale S/.42. ¿Cuánto debo pagar por los dos?

Solución:




3. Rocío tiene 25 cartas y Mary le da sus 13 cartas. ¿Cuántas cartas tiene Rocío ahora?

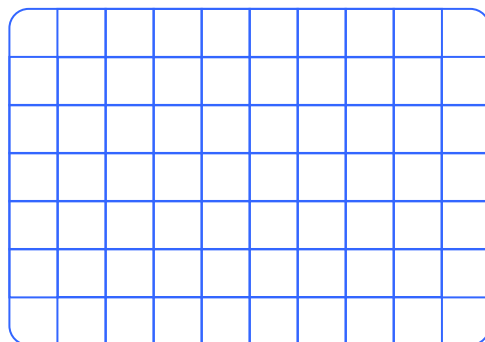
Solución:




4. Frank tiene S/.50 si compra un juguete de S/.24, ¿cuánto le queda?




5. Marly recibió 70 soles de propina, gasta 26 soles en golosinas ¿Cuánto le debe quedar?




6. Un ómnibus debe recorrer 86 kilómetros en 1 hora, si ha recorrido 28 kilómetros ¿Cuántos kilómetros le falta recorrer?




7. En un auto en el primer tramo recorrimos 53 kiló_ metros luego 28 kilóme_ tros. ¿Cuántos kilómetros se avanzó en total?



8. En una tienda se compra_ ron 90 panes para vender en el día, entre las 7 am y las 8 am se vendieron 56 panes y entre las 8 am y las 9 am se vendieron 27 panes. ¿Cuántos panes quedan?




9. Fidel tiene S/. 18, su mamá le da S/. 7 y su papá le da 14 soles. ¿Cuánto le faltará para tener S/. 50?




TAREA PARA MI...

Problemas de adición y sustracción.

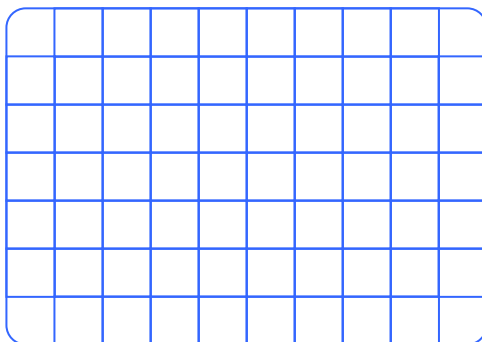
1. De los S/.50 que me dio mi papá gasté en el cine S/.26. ¿Cuánto me queda?



2. En un juego la primera vez gané 28 puntos y en la segunda vez gané 44 puntos. ¿Cuántos puntos tengo?



3. Una señora lleva al mercado un billete de S/.50 y dos billetes de S/.20. Si en el mercado gastó 72 soles. ¿Cuánto dinero le queda?



4. Mi papá el lunes y el viernes compra el Comercio y los sábados compra la revista deportiva que cuesta S/.12 y el domingo compra la revista Oiga que vale S/.8. ¿Cuánto gasta en una semana si el Comercio cuesta S/.3?

