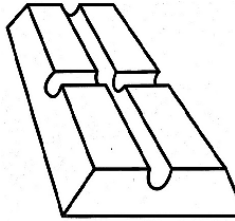


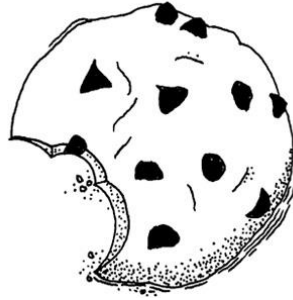


PROBLEMAS DE ADICION


1. En el cafetín venden los siguientes productos:




2 s/.



1 s/.




3 s/.




4 s/.

Beto



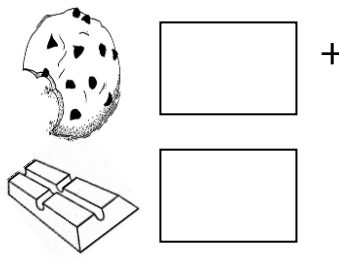
Y gasto:

Ferchy



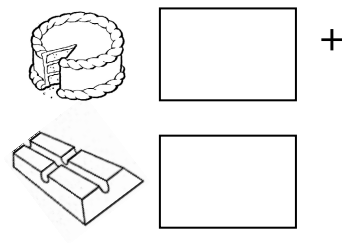
Y gasto:

Dario



Y gasto:


Evony



Y gasto:

2. **resuelvo:**

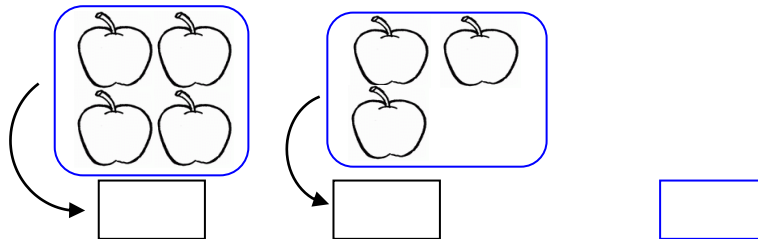
Carola tiene 2 globos y su hermano Andrés tiene 3 globos. ¿Cuántos globos tienen entre los dos?



+ y =

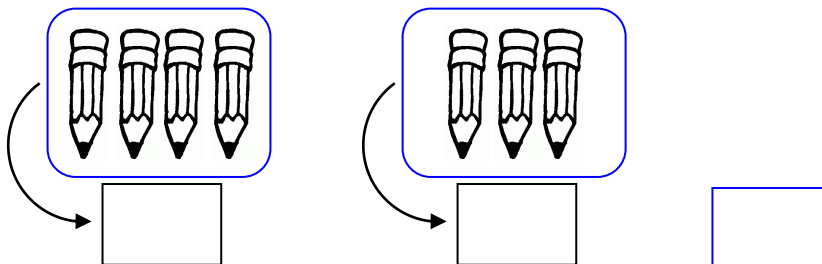
Respuesta: Entre las dos tienenglobos.

Tenía 4 manzanas, luego me regalaron 3 manzanas más. ¿Cuántas manzanas tengo ahora?



Respuesta:

Mamá me compró 4 lápices y mi amigo me regaló 3 lápices. ¿Cuántos lápices tengo?



Respuesta:

Lupe tiene 3 pollitos y le regalan 4 pollitos. ¿Cuántos pollitos tiene en total?

Datos	Operación

Respuesta:

Carlitos tenía 3 soles, su mamá le dio 2 soles y su Papá 3 soles más. ¿Cuánto tiene en total?

Datos	Operación

Respuesta:

Pepe tiene 10 trompos y 5 carros. ¿Cuántos juguetes tiene en total?

Datos	Operación

Respuesta:

Liliana tiene 8 plátanos y 3 peras. ¿Cuántas frutas hay en total?

Datos	Operación

Respuesta:

Carla tiene 9 panes y 5 quesos si le regalan 3 panes. ¿Cuántos panes tendrá?

Datos	Operación

Respuesta:

En un frutero hay 10 naranjas y 6 peras si compro 6 peras más. ¿Cuántas peras tendré?

Datos	Operación

Respuesta:

Tarea para la...

Resolver:

1. Tengo 6 lápices y me encuentro 3. ¿Cuántos tengo ahora?

Datos	Operación

Respuesta:

2. Lucy tiene 4 soles y se encontró 2 soles. ¿Cuánto tiene ahora?

Datos	Operación

Respuesta:

3. Nieves va al mercado y compra 2 plátanos, 3 peras y 4 naranjas. ¿Cuántas frutas compró en total?

Datos	Operación

Respuesta:

4. Carlos tiene S/.5 y Pepe S/.3. ¿Cuánto dinero tienen entre los dos?

Datos	Operación

Respuesta:

5. En la danza de primer grado hay 9 niños bailando si 5 niños más salen a bailar. ¿Cuántos niños en total están bailando?

Datos	Operación

Respuesta:

6. El día lunes compré 2 hamburguesas, el martes 3 más y el miércoles solo uno. ¿Cuántas hamburguesas compre en total?

Datos	Operación

Respuesta: