



### ORDENA LOS NÚMEROS DEL 0 AL 9

Cuenta las bolitas que hay en cada una de las cajas.

1 2 3

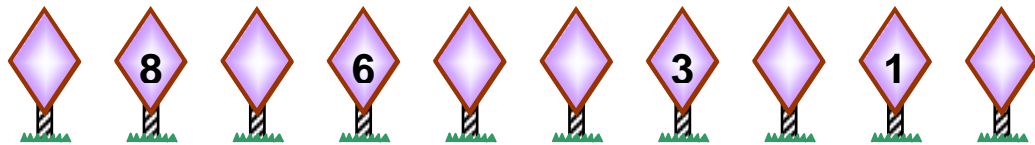

Dibujo y coloreo.

0 1 2 3 4  
5 6 7 8 9

Cuenta y completa la sucesión descendente.

.....; .....; .....; .....; .....; .....; .....; .....; .....

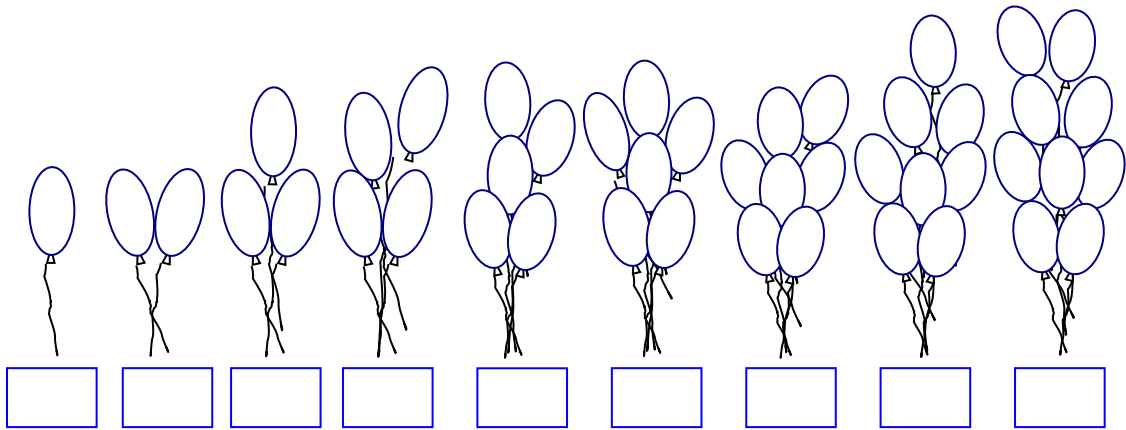
Escribo el número que falta según la sucesión:




Dibujo:

N°	CANTIDAD
2	
8	
4	
6	
0	
3	
7	
9	
5	

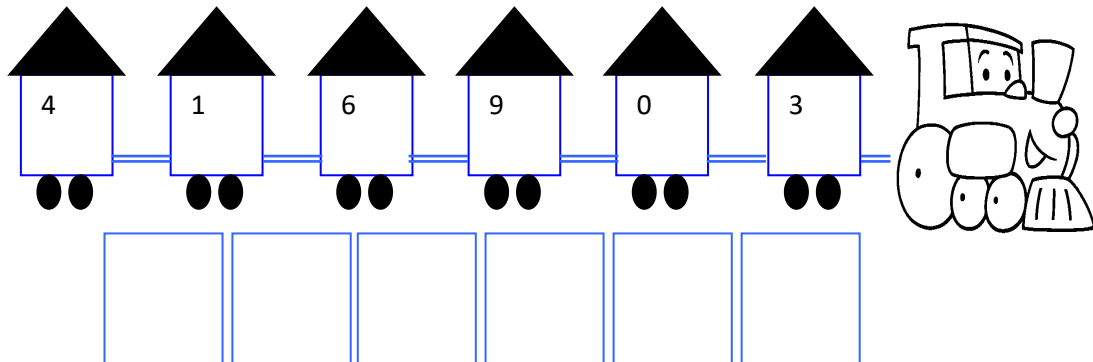
Cuenta y completa la sucesión ascendente.



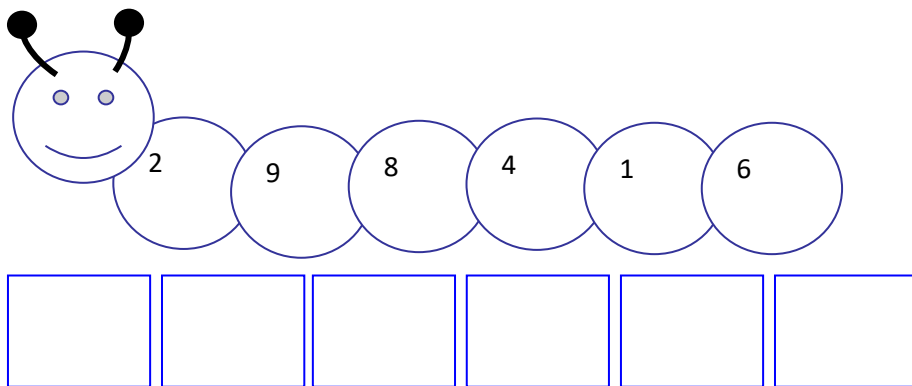
Completo.



Ordena los números en forma creciente.



Ordena los números en forma decreciente.



**Para Trabajar en...**

Ordena los números en forma creciente.

a) 4; 7; 2; 9; 0; 5

-----

b) 8; 1; 3; 4; 6; 2

Ordena los números en forma decreciente

a) 4; 6; 5; 3; 8; 1

b) 0; 2; 9; 1; 4; 7

.....  
.....  
.....  
.....