



# NUMEROS ORDINALES

Los números ordinales nos indican el lugar que ocupa un elemento respecto a una referencia.

De las personas que figuran en la foto el primero (1°) que figura en la fila

es un..... el segundo. (2°) que está en la fila es una ..... y el último de la fila es .....

- Cuando todos tus compañeros están en formación el 1° que está en la fila es: .....

### TRABAJANDO EN EL AULA

1. Encierra CIRCULO según los números ordinales:

- Tercero (3°) :



- Sexto (6°) :



- Primero (1°) :




- noveno (9°) :




- Quinto (5°) :



2. Encierra con una línea roja el segundo, con una línea azul el cuarto y con una línea verde el último.




3. De los niños que están pagando en la caja:



Escribe los nombres según corresponda:

- El 3° es: .....
- El 5° es: .....
- El 1° es: .....
- El 6° es: .....
- El 2° es: .....
- El 7° es: .....

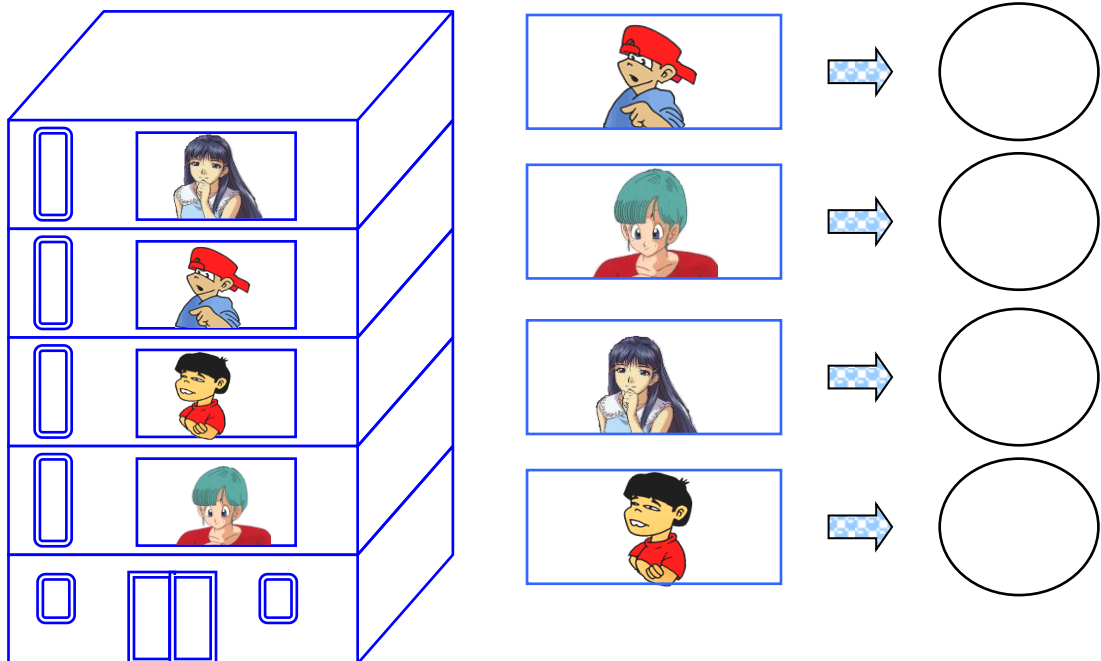
4. De los niños que participan en la carrera.



- Escribe los nombres en los polos en el orden que se indica:



5. Identifica en que piso se encuentran los niños.



6. Al finalizar el año en mi salón se le premió a los primeros puestos del cual Rita quedó en el 3<sup>er</sup> lugar dos lugares después de Jaime y cuatro lugares antes que Eduardo. ¿En qué lugar quedó Eduardo?
7. Cuando formamos en la puerta de mi salón, yo estoy 2 lugares antes que Fidel. Si Fidel está en el sétimo lugar. ¿en qué lugar estoy yo?
8. En la “Olimpiada de Matemática” Gisel ocupó el quinto puesto y Franco 3 lugares después de Gisel. ¿Qué puesto ocupó Franco?


9. Une con una línea los números ordinales con su respectivo nombre:



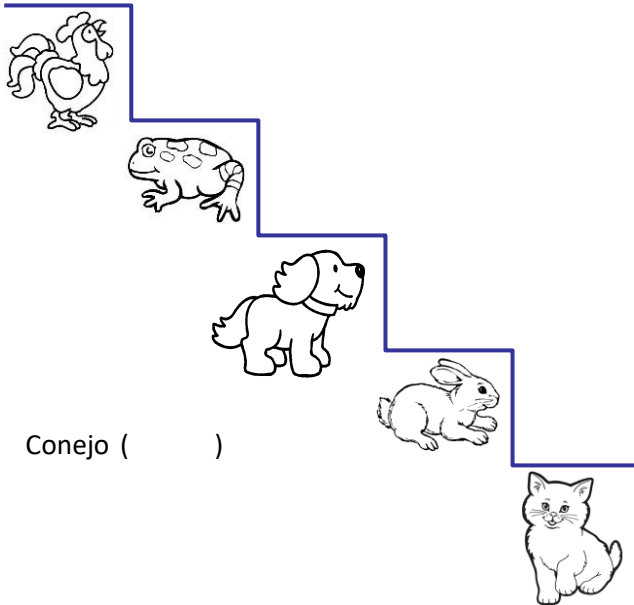
- 8°
- 1°
- 5°
- 3°
- 6°

- Primero
- Quinto
- Octavo
- Sexto
- Tercero

10. Pinta de rojo el 3° y 7° helado:



11. Escribe (V) si es verdadero y (F) si es falso

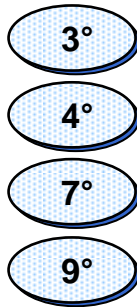


2° Conejo ( )


- 5° Perro ( )
- 1° Gato ( )
- 3° Sapo ( )
- 4° Gallo ( )
-

AREA PARA MI...


1. Une con una línea los números ordinales con su respectivo nombre:



2. Pinta de marrón el 2° y el 8° gatito.



3. Observa la siguiente carrera:



Escribe el nombre de los perros según el orden:

1°	<input type="text"/>	3°	<input type="text"/>	<input type="text"/>
6°	<input type="text"/>	8°	<input type="text"/>	<input type="text"/>

4. En un concurso de matemática, Miguel quedó en el 5° lugar pero dos lugares después de Richard. En qué lugar quedó Richard.
5. Para salir del aula los alumnos forman una fila y Luisa estaba en el 4° lugar, tres lugares antes que Max. ¿En qué lugar está Max?
6. **Ayuda a Carla a recoger todos sus juguetes y completa los espacios en blanco**



- En el segundo escalón hay:  
.....
- En el octavo escalón hay:  
.....
- En el cuarto escalón hay:  
.....
- En el sexto escalón hay: