





NUMEROS MENORES QUE 40



Observamos que la niña Cintia tiene 19 soles.

DECENAS	UNIDADES
	

Podemos decir también que tiene:

“DIECINUEVE UNIDADES”.

Se le agrega una moneda de 1 sol, ahora tiene:

DECENAS	UNIDADES
	

Como 10 monedas de un nuevo sol equivalen a un billete de 10 nuevos soles (1 decena), las monedas lo cambio por el billete de diez nuevos soles y lo ubico en el lugar de las decenas.

DECENAS	UNIDADES
	

Según el tablero se lee: “Veinte unidades”

Además, afirmamos: $20 U = 2 D$

Ahora si un niño tiene 29 soles y se aumenta un nuevo sol, tendrá:

DECENAS	UNIDADES
	

Pero como 10 monedas de un nuevo sol equivalen a un billete de diez nuevos soles lo ubicamos en el lugar de las decenas.

DECENAS	UNIDADES
	

Según el tablero se lee: "TREINTA UNIDADES"


Por lo tanto afirmamos que: $30 U = 3 D$

TRABAJANDO EN EL AULA


1. Completa la tabla:

NÚMERO	RESULTAD O	SE ESCRIBE
20 + 1		
20 + 2		
20 + 3		
20 + 4		
20 + 5		
20 + 6		
20 + 7		
20 + 8		
20 + 9		


2. Escribe el número de unidades correspondiente en cada caso:




↓




↓




↓



↓



↓



↓

3. Completa el cuadro:

ADICIÓN	RESULTADO	SE ESCRIBE
30 + 1		
30 + 2		
30 + 3		
30 + 4		
30 + 5		
30 + 6		
30 + 7		
30 + 8		
30 + 9		

4. Escribe el número correspondiente en cada caso:

• 2D 3U →

• 2D 4U →

• 2D 6U →

• 7U 2D →

• 8U 2D →

→

• 3D 5U →

• 3D 6U →

• 3D 9U →

• 7U 3D →

• 3U 3D →

→

5. Escribe el número y completa:

• 28 = decenas y unidades.

• 32 = decenas y unidades.

• 34 = decenas y unidades.

• 25 = decenas y unidades.

• 24 = decenas y unidades.

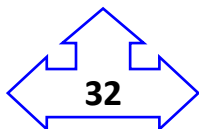
TAREA PARA MI...

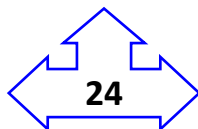
1. Une con una línea el número correspondiente:

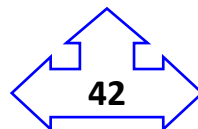
2 decenas 3 unidades

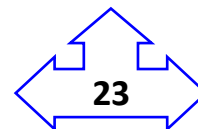
3 decenas 2 unidades

2 decenas 4 unidades


32


24


42


23

2. Escribe el número correspondiente en cada caso:

- 2D 5U →
- 1U 2D →
- 2D 0U →
- 3U 2D →
- 2D 9U →
-

- 3D 4U →
- 2U 3D →
- 3D 8U →
- 2U 3D →
- 1U 3D →
-

3. Completa el cuadro:

Veinticuatro	
Treinta y tres	
Veinticinco	
Treinta y siete	
Veintiseis	

Treinta y cuatro	
Veintitres	
Treinta y ocho	
Veintisiete	
Treinta y nueve	

4. Escribe el número correspondiente en cada caso:

- 3 decenas 4 unidades. →
- 2 unidades 1 decena. →
- 3 unidades 2 decenas. →
- 2 decenas 5 unidades. →
- 5 unidades 1 decena. →
- 4 unidades 2 decenas. →
-