




NUMEROS MENORES QUE 100


Problemas de Adición y Sustracción con Números Naturales Menores que 100.

TRABAJANDO EN EL AULA

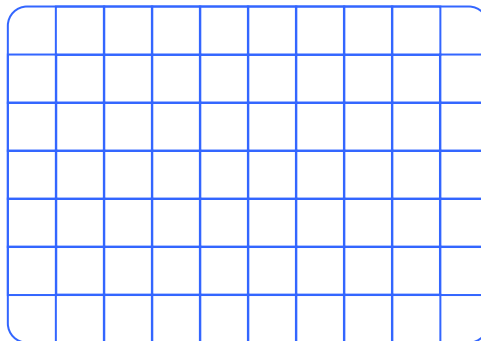
1. Pablo gana 35 nuevos soles por día de trabajo y recibe 12 nuevos soles por sus horas extras.
¿Cuántos nuevos soles gana?



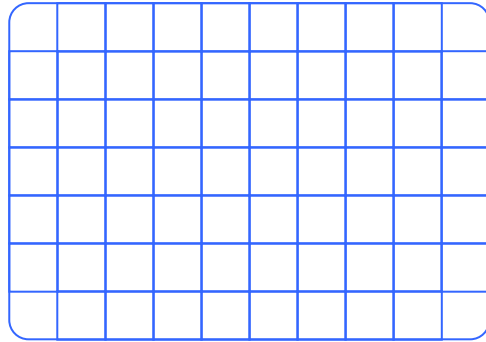
2. Un sastre cose 75 pantalones y vende cinco decenas. ¿Cuántos pantalones le quedan?




3. En un Cúster viajan 24 pasajeros y en otro Cúster viajan 31 pasajeros.
¿Cuántos pasajeros viajan en total?




4. e llevado a vender 47 dul_ ces de manzana y me que_ dan 12. ¿Cuántos dulces de manzana he vendido?



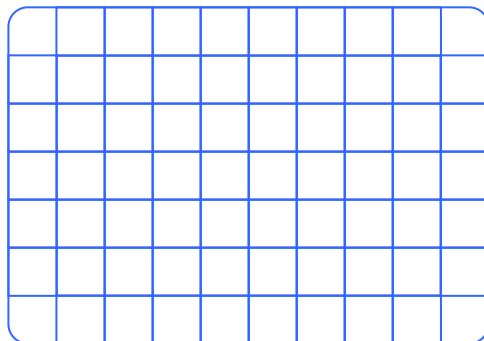
5. En un Bus Cama que parte de Lima con 53 pasajeros en el transcurso bajan 12 pasajeros. ¿Cuántos pasa_ jeros llegan a su destino?




6. ¿Cuántos soles tenía Ana, si después de comprar una muñeca de S/. 25 le queda S/.36?




7. Rubén compra 90 metros de tela, si en una semana vende 24 metros. ¿Cuántos metros de tela le quedan?




8. Sofía tiene 20 gallinas y Luisa 7 menos pero Rocío tiene 13 más que Luisa.
¿Cuántas gallinas tiene entre las tres?



9. Pedro tiene 8 cromos más que Luis y Luis 7 cromos menos que Roberto.
¿Cuántos cromos tienen entre los tres si Roberto tiene 28 cromos?

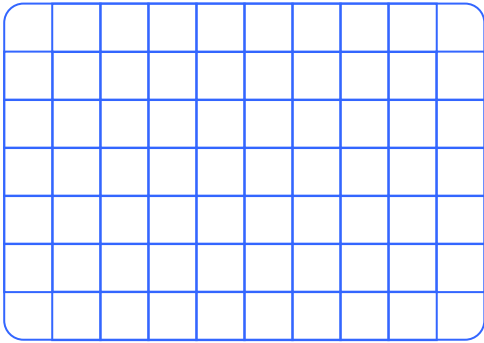


10. Iván tiene S/. 48 y Manuel S/. 37, si ambos compran un solo juguete de S/. 10.
¿Cuánto de dinero le queda a los dos juntos?

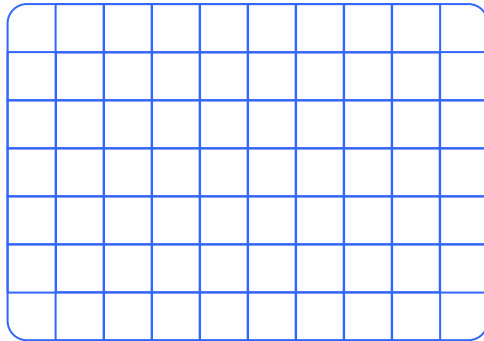


TAREA PARA MI...


1. En un tren viajan 98 pasajeros de los cuales 59 son hombres. ¿Cuántas son mujeres?



2. Compré 67 botones rojos y 28 botones azules. ¿Cuántos botones compré en total?



3. Marco tiene 12 soles menos que Lucho. ¿Cuánto tienen entre los dos si Lucho tiene S/. 51?



4. A Mario le quedan S/. 12 después de gastar S/. 19 y a Inés le queda S/. 8 después de gastar S/. 15. ¿Cuánto tienen los dos juntas inicialmente?

