



# NUMEROS MAYORES QUE 99

Adición y Sustracción

Observo:

¿Cuántas figuritas tiene en total?

C	D	U	
1	2	7	← El niño tiene.
+	4	5	← La niña le da
1	7	2	

Tiene 172 figuritas.

TRABAJANDO EN EL AULA

1. Efectúo la suma:

$$\begin{array}{r} 76 \\ + 115 \\ \hline \end{array}$$

$$\begin{array}{r} 134 \\ + 56 \\ \hline \end{array}$$

$$\begin{array}{r} 162 \\ + 19 \\ \hline \end{array}$$

$$\begin{array}{r} 43 \\ + 129 \\ \hline \end{array}$$

$$\begin{array}{r} 118 \\ + 56 \\ \hline \end{array}$$


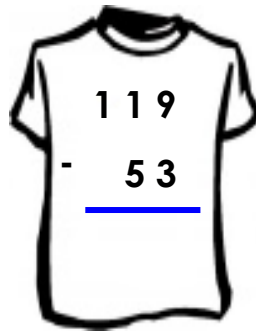
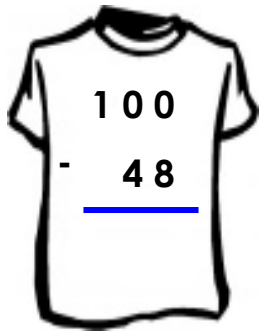
$$\begin{array}{r} 137 \\ + 65 \\ \hline \end{array}$$

2. Realizo la resta:

$$\begin{array}{r} 147 \\ - 28 \\ \hline \end{array}$$

$$\begin{array}{r} 170 \\ - 53 \\ \hline \end{array}$$

$$\begin{array}{r} 161 \\ - 36 \\ \hline \end{array}$$



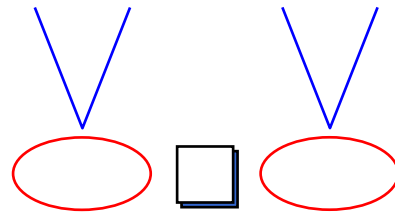
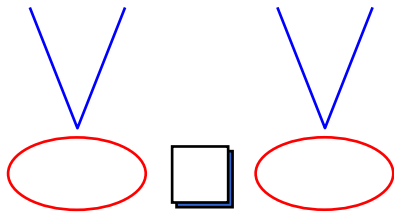
3. Efectúo las operaciones y comparo:

•  $(100 + 70)$

$(140 - 20)$

•  $(163 + 27)$

$(178 - 11)$

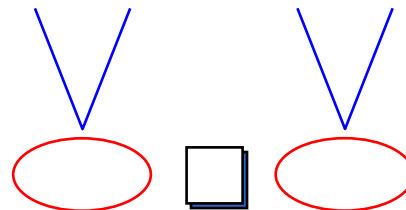
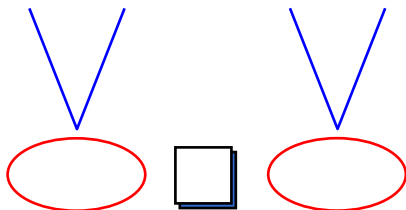


•  $(185 - 28)$

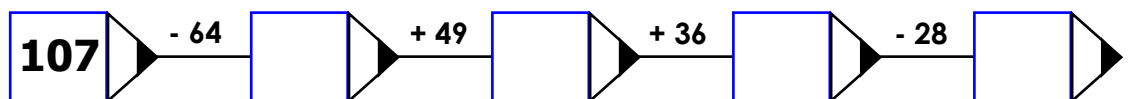
$(128 + 34)$

•  $(170 - 14)$

$(126 + 55)$

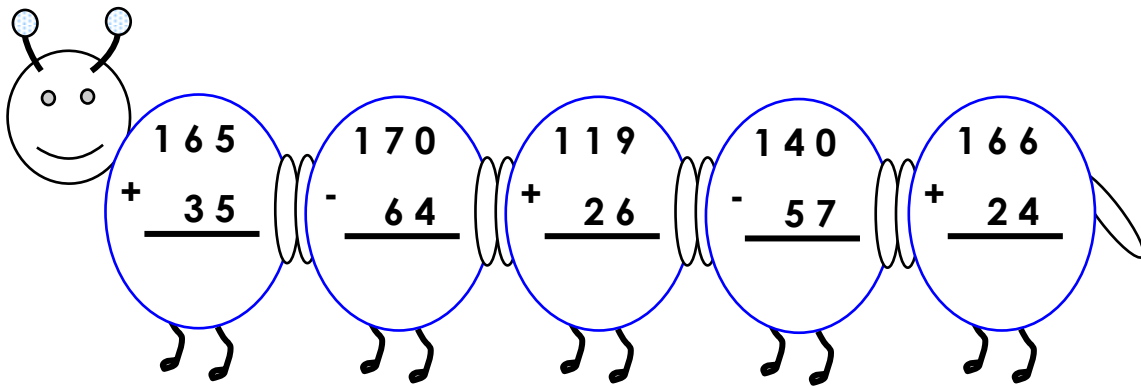


4. Completo efectuando las operaciones indicadas:



•

5. Hallo el resultado en cada caso y ordeno en forma creciente:



<  <  <  <

TAREA PARA MI...

1. Halla la suma:

86  
+ 94  
-----

119  
+ 54  
-----

128  
+ 46  
-----

75  
+ 118  
-----

2. Determina la diferencia:

140  
- 83  
-----

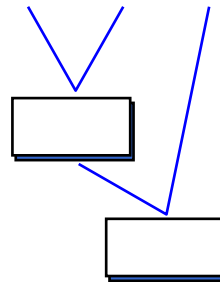
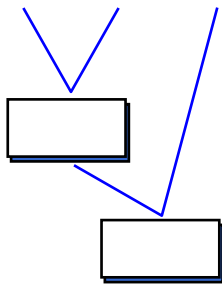
120  
- 57  
-----

170  
- 46  
-----

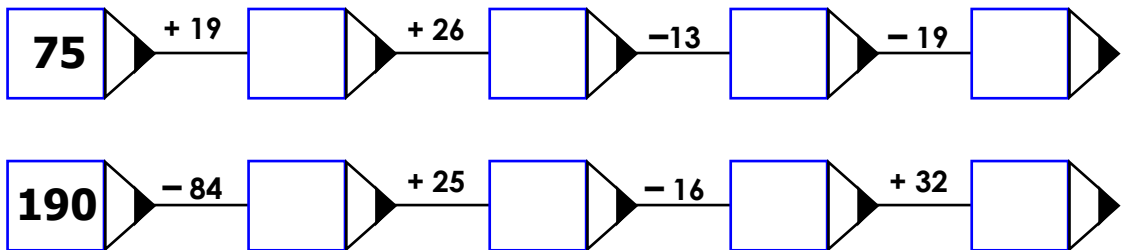
182  
- 95  
-----

3. Efectúa las operaciones:

- $140 - 76 + 24$
- $190 - 69 - 16$



4. Completa efectuando las operaciones:



### Problemas de Adición y Sustracción

#### TRABAJANDO EN EL AULA

1. Fabiola tiene 157 soles y gasta S/. 88. ¿Cuánto le queda?

Respuesta:

2. En una fiesta hay 42 personas 19 están sentadas ¿Cuántas están paradas?

Respuesta:

3. En un tren viajan 49 hombres y 76 mujeres. ¿Cuántas personas viajan en el tren?

Respuesta:

4. El dinero de Carlos y Sara suman S/. 36. Si Sara tiene 16 soles ¿Cuánto dinero tiene Carlos?

Respuesta:

5. Renzo compra una mesa de S/. 76, una lonchera de S/. 45 y una mochila de S/. 53. ¿Cuánto gastó en total?

Respuesta:

6. En un corral hay 48 gallos y 63 gallinas, si nacen 38 pollitos. ¿Cuántas aves hay en total?

Respuesta:

7. Juanito tiene S/. 26, Miguel tiene S/.28 más que Juanito y Luis tiene 36 soles más que Miguel. ¿Cuánto tienen los tres juntos?

Respuesta:

8. Mariela lleva 1 billete de S/.100 y 1 billete de S/.50 para realizar compras en la tienda, si gastó 126 soles. ¿Cuánto recibe de vuelto?

Respuesta:

9. Un alumno de abril a junio estudió 76 días y de julio a setiembre estudió sólo 65 días. ¿Cuántos días estudió de abril a setiembre?

Respuesta:

10. De mis ahorros son 190 soles gasté en mi cumpleaños 76 soles. Luego me compré una zapatilla de S/. 55. ¿Cuánto me queda?

Respuesta:

11. En una chacra hay 64 naranjas y 77 mandarinas. ¿Cuántas frutas quedan si se malograrón 59 frutas?

Respuesta:

12. En el salón de 1er grado hay 32 alumnos, en el 2do grado son 35 alumnos y el 3er grado tiene 34 alumnos. ¿Cuántos alumnos hay en total si del 1er grado se retiraron 13 alumnos?

Respuesta:

## TAREA PARA MI...

1. De un cuaderno de 150 hojas se utilizaron 49 hojas. ¿Cuántas hojas faltan utilizar?

Respuesta:

2. A mi fiesta asistieron 56 niños y 74 adultos, si se retiraron 6 niños con sus respectivas mamás. ¿Cuántas personas se quedaron en la fiesta?

Respuesta:

3. En un avión viajan 147 personas, dejan 89 pasajeros en Lima y el resto se dirigen al Cusco. ¿Cuántos pasajeros llegan al Cusco?

Respuesta:

4. Un frutero tiene 42 sandías, 29 manzanas y 35 naranjas. ¿Cuántas frutas le quedan si vendió 16 frutas?

Respuesta:

Completa los números en forma ascendente del 200 al 300:

200					205				209
210						216			
220			223					228	
230		232					237		
240		242							249
250				254				258	
260					265				
270						276			
280			283				287		
290				294					