



NUMERACION HASTA EL 999

Veamos el dinero que llevan Pepo y Memo. Indicar cuánto tiene cada uno y escribe en palabras las cantidades:

Pepo

842

Memo

975

TRABAJANDO EN EL AULA

1. Escribo los números que representan:

CENTENAS	DECENAS	UNIDADES




C	D	U

CENTENAS	DECENAS	UNIDADES



C	D	U

- | CENTENAS | DECENAS | UNIDADES |
|---|---|--|
|  |  |  |

→

C	D	U

2. Escribo como se lee:

- 924 =
- 683 =
- 569 =
- 920 =
- 731 =
- 816 =
- 937 =
- 346 =
- 477 =
- 800 =

3. Leo y escribo el número que corresponde:




- Trescientos nueve ○
- Setecientos noventa y ocho ○
- Novecientos treinta y nueve ○
- Ochocientos setenta y cuatro ○
- Quinientos cuarenta y dos ○
- Cuatrocientos veintitrés ○

- Doscientos noventa y nueve ○
- Ochocientos ochenta y tres ○
- Novecientos cincuenta y seis ○
- Trescientos veinticuatro ○

4. Une con una línea lo que representa:

Setecientos Ochocientos noventa Novecientos ochenta

•  890  600  700  980

•  Novecientos treinta y nueve  Ochocientos setenta y nueve  Setecientos cincuenta

 879  750  939  993

5. Escribo el número que corresponde en cada caso:

- 9 centenas 2 decenas 4 unidades ⇨
- 8 centenas 5 unidades 3 decenas ⇨
- 5 decenas 6 unidades 7 centenas ⇨
- 6 decenas 6 centenas 8 unidades ⇨
- 7 unidades 8 decenas 5 centenas ⇨
- 2 unidades 4 centenas 7 decenas ⇨

TAREA PARA MI...

Completo con números el MATEGRAMA de acuerdo a las siguientes pistas:

1. 8 decenas
2. cuatrocientos
3. trescientos cincuenta
4. quinientos veinte
5. 4D 3U
6. 70 decenas
7. 9 centenas y 4 unidades
8. 6D 4U 9C
9. 7 unidades 2 decenas

