



NUMERACION HASTA 99

Escritura y Forma Desarrollad

Escribo literalmente los siguientes números:

- $79 + 1 = 80 = \dots\dots\dots$
- $80 + 1 = \dots\dots = \dots\dots\dots$
- $81 + 1 = \dots\dots = \dots\dots\dots$
- $82 + 1 = \dots\dots = \dots\dots\dots$
- $83 + 1 = \dots\dots = \dots\dots\dots$
- $84 + 1 = \dots\dots = \dots\dots\dots$
- $85 + 1 = \dots\dots = \dots\dots\dots$
- $86 + 1 = \dots\dots = \dots\dots\dots$
- $87 + 1 = \dots\dots = \dots\dots\dots$
- $88 + 1 = \dots\dots = \dots\dots\dots$

Escribo el número que corresponde en cada caso:

- | | | | |
|--------------------|----------------|-------------------|----------------|
| • Noventa | = $\dots\dots$ | • Noventa y cinco | = $\dots\dots$ |
| • Noventa y uno | = $\dots\dots$ | • Noventa y seis | = $\dots\dots$ |
| • Noventa y dos | = $\dots\dots$ | • Noventa y siete | = $\dots\dots$ |
| • Noventa y tres | = $\dots\dots$ | • Noventa y ocho | = $\dots\dots$ |
| • Noventa y cuatro | = $\dots\dots$ | • Noventa y nueve | = $\dots\dots$ |

TRABAJANDO EN EL AULA

1. Escribo la forma desarrollada de cada número:

• $96 = \dots + \dots$

• $85 = \dots + \dots$

• $78 = \dots + \dots$

• $97 = \dots + \dots$

• $84 = \dots + \dots$

• $82 = \dots + \dots$

• $93 = \dots + \dots$

• $95 = \dots + \dots$

• $86 = \dots + \dots$

• $64 = \dots + \dots$

2. Escribo el número que corresponde en cada caso:

• $9D\ 3U = \dots$

• $8D\ 4U = \dots$

• $4U\ 7D = \dots$

• $6U\ 5D = \dots$

• $6D\ 5U = \dots$

• $8D\ 7U = \dots$

• $6U\ 8D = \dots$

• $2U\ 9D = \dots$

• $9D\ 7U = \dots$

• $6D\ 1U = \dots$

3. Une con una línea los números que correspondan:

Ochenta y seis

Noventa y cinco

Ochenta y siete



87

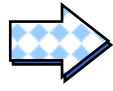
95

86



78


4. Escribo los números que representa en la imagen:

DECENAS	UNIDADES
	





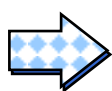
D	U

DECENAS	UNIDADES
	



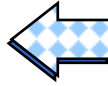
D	U

DECENAS	UNIDADES
	



D	U

D	U



DECENAS	UNIDADES

5. Leo y escribo el número que corresponde:

- Noventa y ocho ⇨
- Setenta y cuatro ⇨
- Ochenta y siete ⇨
- Noventa y tres ⇨
- Sesenta y seis ⇨
- Cincuenta y dos ⇨
- Noventa y nueve ⇨

TAREA PARA MI...

1. Escribo el número en cada caso:

- 6 unidades 8 decenas ⇒ _____
- 4 decenas 9 unidades ⇒ _____
- 5 unidades 9 decenas ⇒ _____
- 7 decenas 6 unidades ⇒ _____
- 2 unidades 7 decenas ⇒ _____

2. Completo el cuadro:

NOTACIÓN	NÚMERO	SE ESCRIBE
4D 6U		
7U 8D		
5U 9D		
8D 6U		
9D 1U		

3. Une con una línea con su respectivo número:

4D 9U

9D 4U

6D 7U

7D 6U

94

67

56

49

76

4. Escribo el número en cada caso:

- | | | | | | |
|------------------|---|--|--------------------|---|--|
| • Sesenta y dos | ▷ | <input style="width: 80%;" type="text"/> | • Noventa | ▷ | <input style="width: 80%;" type="text"/> |
| • Noventa y seis | ▷ | <input style="width: 80%;" type="text"/> | • Ochenta y nueve | ▷ | <input style="width: 80%;" type="text"/> |
| • Cuarenta y uno | ▷ | <input style="width: 80%;" type="text"/> | • Ochenta y ocho | ▷ | <input style="width: 80%;" type="text"/> |
| • Setenta y seis | ▷ | <input style="width: 80%;" type="text"/> | • Cincuenta y tres | ▷ | <input style="width: 80%;" type="text"/> |