



MONEDAS Y LOS BILLETES

Monedas



BILLETES



S/.



S/.



S/.



S/.



S/.



TRABAJANDO EN EL AULA

1. ¿Cuánto tengo? Cuento cada cantidad



Tengo **s/** _____



Tengo **s/** _____



Tengo **s/** _____



Tengo **s/** _____



Tengo **s/** _____



Tengo **s/** _____



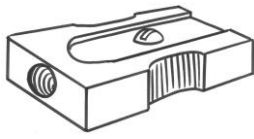


Tengo **s/** _____



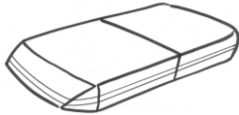


Tengo **s/** _____


2. Pago por :





s/ _____





s/ _____



s/ _____



s/ _____



s/ _____

3. Calculo cuánto me queda

Pago:

Tengo:

Me queda :



s/.17



s/



s/.56




s/



s/.38



s/



s/.77



s/

TAREA PARA MI...

1. ¿Cuánto tengo? Cuento cada cantidad



2. Relaciona el objeto con la cantidad



3. Pago por :



s/ _____




s/ _____

4. Calculo cuánto me queda

Pago:

Tengo :

Me queda



s/.29



s/ _____