




# DESCOMPOSICION Y COMPARACION

### Números Menores que 200

Observo que para comprar un par de zapatos cuyo precio es 124 soles pagué con un billete de S/.100, 2 billetes de S/. 10 y 4 monedas de un nuevo sol. Vea el gráfico.



Veamos los artículos y sus respectivos precios:



Notamos que el televisor vale más que la plancha entonces:

$$160 > 102$$

### TRABAJANDO EN EL AULA

1. Descompongo en centenas (C), decenas (D) y unidades (U).

|  |  |  |
|--|--|--|
| •<br><b>176</b><br>├───┬───┬───<br>└───┴───┴───<br>[ ] [ ] [ ] | •<br><b>153</b><br>├───┬───┬───<br>└───┴───┴───<br>[ ] [ ] [ ] | •<br><b>148</b><br>├───┬───┬───<br>└───┴───┴───<br>[ ] [ ] [ ] |
| •<br><b>116</b><br>├───┬───┬───<br>└───┴───┴───<br>[ ] [ ] [ ] | •<br><b>129</b><br>├───┬───┬───<br>└───┴───┴───<br>[ ] [ ] [ ] | •<br><b>197</b><br>├───┬───┬───<br>└───┴───┴───<br>[ ] [ ] [ ] |

2. Escribe la notación desarrollada de cada número.

- $125 = \dots + \dots + \dots$
- $138 = \dots + \dots + \dots$
- $152 = \dots + \dots + \dots$
- $178 = \dots + \dots + \dots$
- $146 = \dots + \dots + \dots$
- $113 = \dots + \dots + \dots$
- $162 = \dots + \dots + \dots$
- $190 = \dots + \dots + \dots$

3. Escribe el número correspondiente en cada caso:

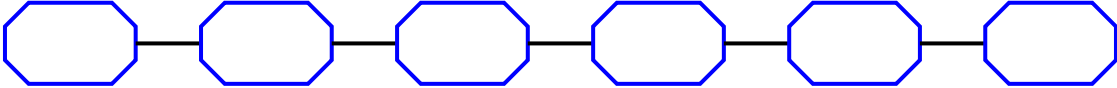
- 1C 4D 8U  $\curvearrowright$  .....
- 1C 2D 6U  $\curvearrowright$  .....
- 7D 6U 1C  $\curvearrowright$  .....
- 3D 1C 7U  $\curvearrowright$  .....
- 2D 3U 1C  $\curvearrowright$  .....
- 4D 8U 1C  $\curvearrowright$  .....
- 1C 5D 6U  $\curvearrowright$  .....
- 6D 7U 1C  $\curvearrowright$  .....

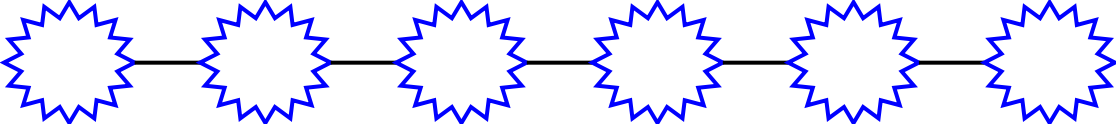
4. Comparo empleando los signos  $<$  ;  $>$  ó  $=$ .

- 176      148      • 114      141      • 126      128
- 165      165      • 117      117      • 180      190
- 165      192      • 172      176      • 184      157

5. Ordeno en forma creciente:

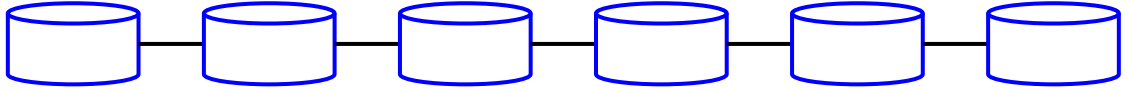
- |     |     |     |     |     |     |
|-----|-----|-----|-----|-----|-----|
| 162 | 118 | 124 | 185 | 149 | 172 |
|-----|-----|-----|-----|-----|-----|

  

- |     |     |     |     |     |     |
|-----|-----|-----|-----|-----|-----|
| 191 | 119 | 143 | 148 | 130 | 165 |
|-----|-----|-----|-----|-----|-----|

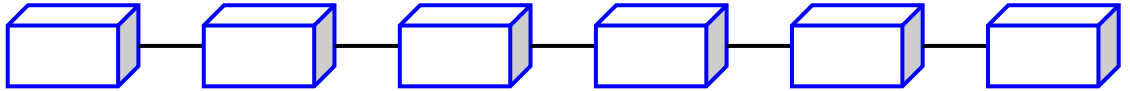
  


Ordeno en forma decreciente:

- **135** **120** **142** **168** **180** **129**



- **182** **176** **195** **124** **119** **160**



TAREA PARA MI...

1. Descompone en centenas, decenas y unidades:

- 148 = .....
- 175 = .....
- 192 = .....
- 183 = .....
- 142 = .....
- 165 = .....

2. Escribe el número correspondiente:

- 3D 4U 1C ⇨ .....
- 5D 3U 1C ⇨ .....
- 2U 1C 7D ⇨ .....
- 4U 8D 1C ⇨ .....
- 9D 2U 1C ⇨ .....
- 1C 2U 3D ⇨ .....

3. Ordena en forma creciente:

160 ; 100 ; 143 ; 165 ; 192

4. Ordena en forma decreciente:

180; 195 ; 167 ; 184 ; 151