



DESCOMPOSICION POLINOMICA

Descomposición Polinómica y Comparación de Números Naturales Menores que 1000.

Veamos la descomposición de los siguientes números y completa los que faltan:

• $467 = 400 + 60 + 7$

• $893 = 800 + 90 + 3$

• $953 = \dots\dots\dots$

• $669 = \dots\dots\dots$

Observo los precios de los siguientes artefactos y ordénalos:



• De mayor a menor.

• De menor a mayor.

> >

< <

TRABAJANDO EN EL AULA

1. Descompone polinómicamente los números:

• $819 = \underline{\hspace{2cm}}$

• $935 = \underline{\hspace{2cm}}$

• $742 = \underline{\hspace{2cm}}$

• $654 = \underline{\hspace{2cm}}$

• $420 = \underline{\hspace{2cm}}$

• $576 = \underline{\hspace{2cm}}$

• $963 = \underline{\hspace{2cm}}$

• $751 = \underline{\hspace{2cm}}$

• $207 = \underline{\hspace{2cm}}$

• $980 = \underline{\hspace{2cm}}$

2. Escribo los números que corresponde:

- $600 + 20 + 7 = \dots\dots\dots$
- $400 + 30 + 6 = \dots\dots\dots$
- $7 + 40 + 300 = \dots\dots\dots$
- $9 + 500 + 60 = \dots\dots\dots$
- $3 + 90 + 800 = \dots\dots\dots$
- $700 + 30 + 8 = \dots\dots\dots$
- $200 + 10 + 9 = \dots\dots\dots$
- $9 + 60 + 700 = \dots\dots\dots$
- $40 + 7 + 200 = \dots\dots\dots$
- $30 + 9 + 600 = \dots\dots\dots$

3. Escribo los símbolos $>$; $<$ ó $=$ según corresponde:

- 624 389
- 243 243
- 769 960
- 820 916
- 943 328
- 619 520
- 800 880
- 612 621
- 373 373

4. Completo las cifras que faltan para que se cumpla la relación indicada.

- $641 < 6 \quad 0$
- $72 \quad > 728$
- $986 =$
- $485 < 48$
- $85 \quad > 856$
- $643 > 64$
- $975 < 9 \quad 6$
- $800 > 7$
- $\quad \quad = 648$
- $2 \quad 4 < 220$

5. Ordena en forma ascendente:

- 126 ; 248 ; 306 ; 165 ; 289 ; 407

- 306 ; 146 ; 209 ; 416 ; 520 ; 172

TAREA PARA MI...

1. Escribo los números que corresponde:

- $900 + 40 + 7 = \dots\dots\dots$
- $800 + 60 + 3 = \dots\dots\dots$
- $700 + 50 + 2 = \dots\dots\dots$
- $500 + 40 + 6 = \dots\dots\dots$
- $400 + 60 + 5 = \dots\dots\dots$
- $900 + 90 + 9 = \dots\dots\dots$
- $20 + 500 + 3 = \dots\dots\dots$
- $6 + 700 + 80 = \dots\dots\dots$
- $6 + 20 + 800 = \dots\dots\dots$
- $40 + 9 + 900 = \dots\dots\dots$

2. Escribo los símbolos >; < ó = según corresponda:

- 254 328
- 926 907
- 428 428
- 409 524
- 743 806
- 965 956
- 608 606
- 309 390
- 807 748

3. Completo las cifras que faltan para que se cumpla la relación:

- $246 =$
- $850 < 8 \quad 0$
- $320 > 3 \quad 0$
- $950 > \quad 80$
- $926 < \quad 30$
- $3 \quad 6 = \quad 46$
- $300 > \quad 00$
- $102 < 1 \quad 1$
- $86 \quad = 8 \quad 4$
- $998 <$

Operaciones Combinadas

Adición – Sustracción Operaciones Combinadas.

Observo que en mi colegio hay 357 mujeres y 526 varones.

¿Cuántas personas hay en total?

¿Cuál es la diferencia entre el número de alumnos varones y mujeres?

Hallando el total.

C	D	U	
3	5	7	+
5	2	6	

Hay _____ personas

Hallando la diferencia.


C	D	U	
5	2	6	-
3	5	7	

Se tiene _____ personas


TRABAJANDO EN EL AULA

1. Hallo la suma:


328
+ 476
<hr/>




429
+ 526
<hr/>



349
+ 528
<hr/>




616
+ 329
<hr/>




2. Hallo la diferencia:


601
- 248
<hr/>




916
- 529
<hr/>



810
- 628
<hr/>

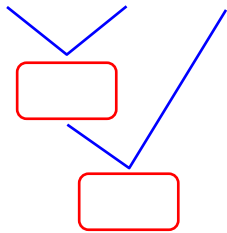


700
- 526
<hr/>

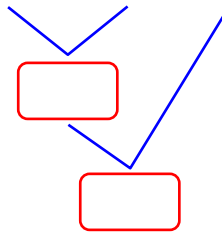


3. Resuelvo:

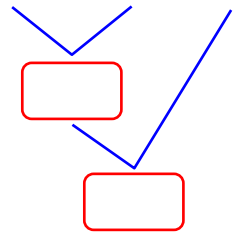
• $246 + 325 - 183$



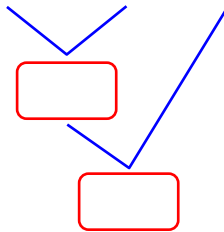
• $856 - 419 + 329$



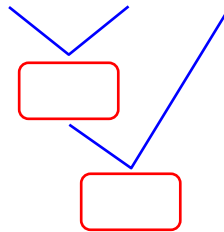
• $975 - 420 - 135$



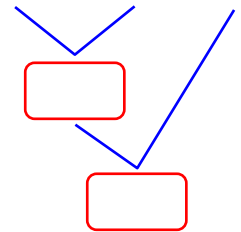
• $724 + 189 - 160$



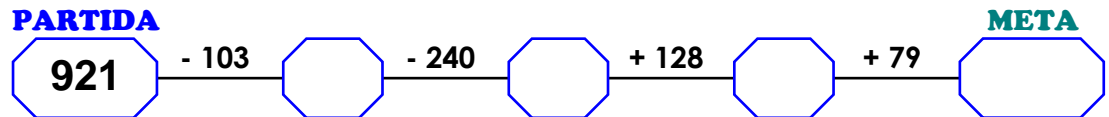
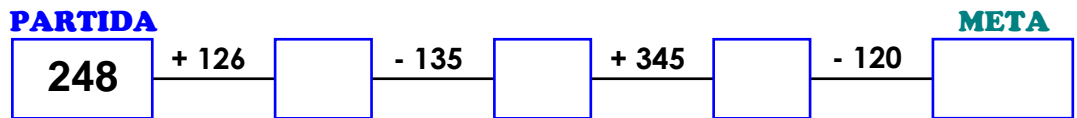
• $429 + 531 - 196$



• $964 - 253 - 168$



4. Encuentro el número que está en la meta.



5. Escribo las cifras que faltan:

•
$$\begin{array}{r} \square 4 6 + \\ 2 \square 9 \\ \hline 6 7 \square \end{array}$$

•
$$\begin{array}{r} 4 7 \square + \\ 3 \square 9 \\ \hline \square 8 5 \end{array}$$

•
$$\begin{array}{r} 7 5 \square + \\ \square 6 8 \\ \hline 9 \square 3 \end{array}$$

•
$$\begin{array}{r} \square 0 3 + \\ 3 \square 6 \\ \hline 8 4 \square \end{array}$$

•
$$\begin{array}{r} 1 0 \square + \\ 7 \square 5 \\ \hline \square 6 8 \end{array}$$

•
$$\begin{array}{r} 5 \square 0 + \\ 4 2 \square \\ \hline \square 7 6 \end{array}$$

TAREA PARA MI...

Colorea los resultados mayores que 400 y menores que 700.

$\begin{array}{r} 429 + \\ \underline{376} \end{array}$	$\begin{array}{r} 859 - \\ \underline{568} \end{array}$	$\begin{array}{r} 439 + \\ \underline{362} \end{array}$	$\begin{array}{r} 900 - \\ \underline{249} \end{array}$	$\begin{array}{r} 628 + \\ \underline{276} \end{array}$
$\begin{array}{r} 500 - \\ \underline{126} \end{array}$	$\begin{array}{r} 348 + \\ \underline{425} \end{array}$	$\begin{array}{r} 648 + \\ \underline{126} \end{array}$	$\begin{array}{r} 700 - \\ \underline{168} \end{array}$	
$\begin{array}{r} 673 - \\ \underline{128} \end{array}$	$\begin{array}{r} 801 - \\ \underline{219} \end{array}$	$\begin{array}{r} 289 + \\ \underline{526} \end{array}$	$\begin{array}{r} 168 + \\ \underline{479} \end{array}$	$\begin{array}{r} 249 + \\ \underline{562} \end{array}$
$\begin{array}{r} 770 - \\ \underline{596} \end{array}$	$\begin{array}{r} 408 + \\ \underline{259} \end{array}$	$\begin{array}{r} 880 - \\ \underline{695} \end{array}$	$\begin{array}{r} 268 + \\ \underline{494} \end{array}$	

Completo los números en forma ascendente de del 900 al 1000

900									909	
910						916				
920			923					928		
930		932					937			
840	841								849	
950				954				958		
860					865					
870						876				
880							887			
990				994						1000