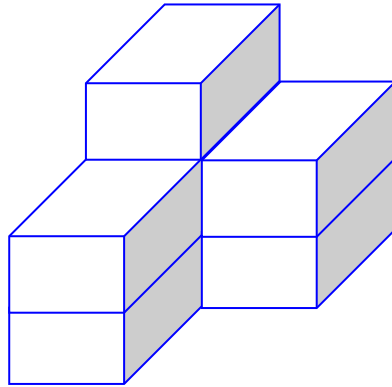


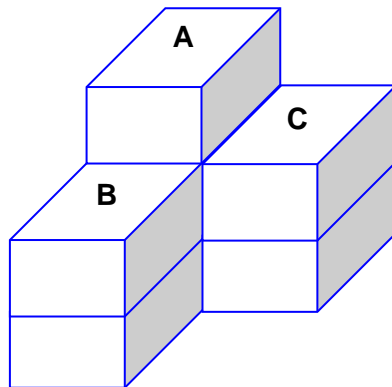


CONTEO DE CUBOS

Observa y cuenta cuántos cubos hay en la figura.



1°) Colocamos letras A, B, C en las caras superiores de los cubos.



2°) Sabiendo que el sólido tiene tres pisos empezamos a contar desde el piso más alto hasta el más bajo.

En A : 3 pisos \Rightarrow 3 cubos

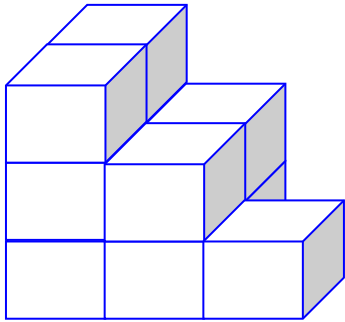
En B : 2 pisos \Rightarrow 2 cubos

En C : 2 pisos \Rightarrow 2 cubos

En total : 7 pisos \Rightarrow 7 cubos

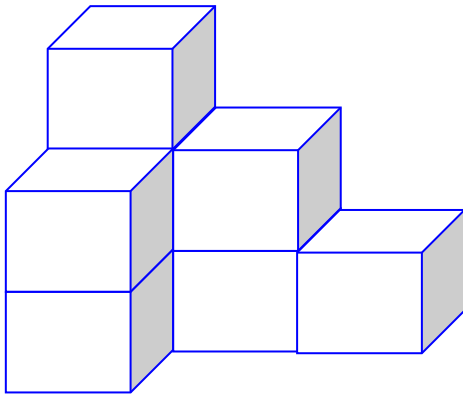
¿Cuántos cubos hay en cada una de las figuras?

1.



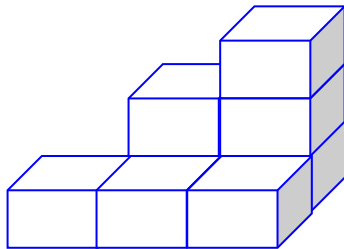
- a) 14 b) 10 c) 8
d) 9 e) 11

2.



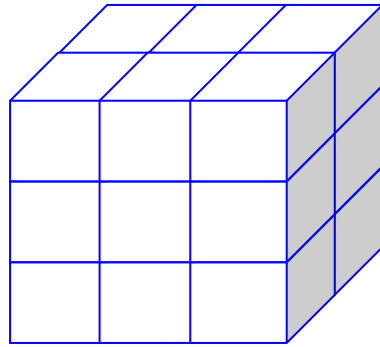
- a) 7 b) 8 c) 9
d) 10 e) 11

3.



- a) 6 b) 8 c) 9
d) 7 e) 10

4.



a) 14

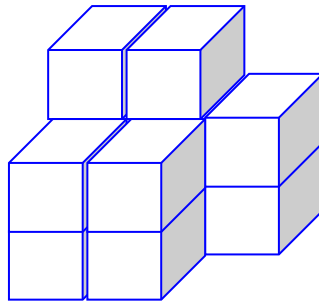
b) 10

c) 18

d) 9

e) 11

5.



a) 14

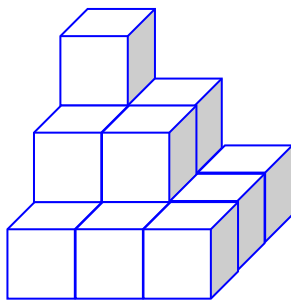
b) 10

c) 8

d) 9

e) 12

6.



a) 14

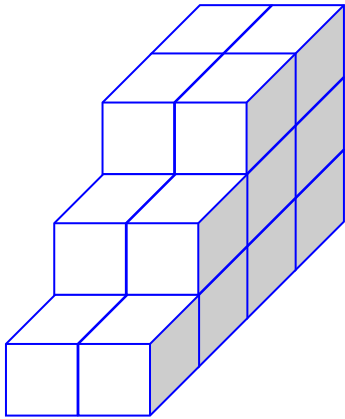
b) 10

c) 8

d) 9

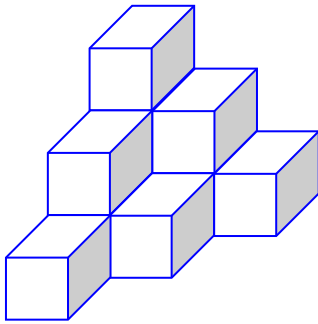
e) 11

7.



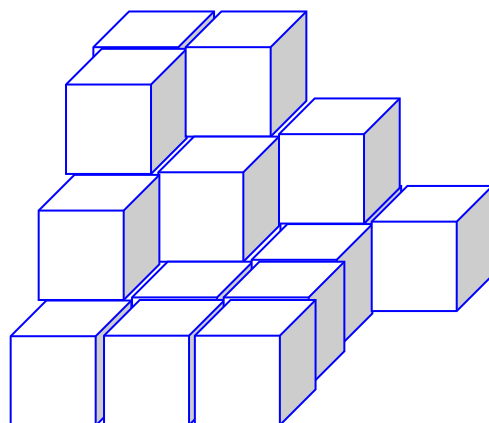
- a) 14 b) 17 c) 15
d) 16 e) 18

8.



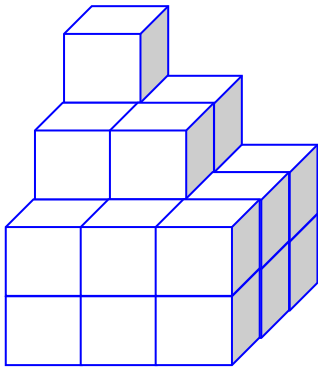
- a) 10 b) 11 c) 12
d) 6 e) 8

9.



- a) 18 b) 16 c) 19
d) 15 e) 22

10.

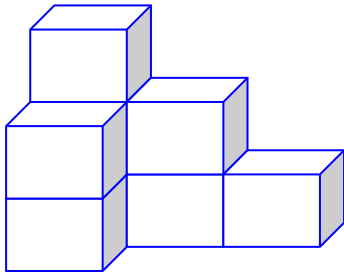


- a) 13 b) 14 c) 15
d) 23 e) 17

TAREA PARA MI...

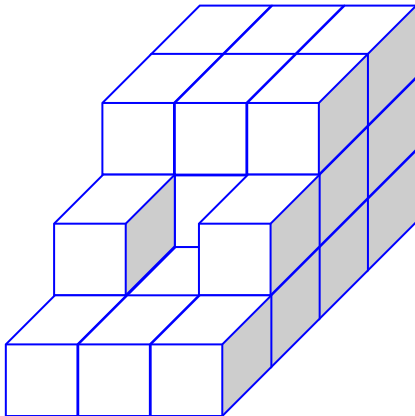
¿Cuántos cubos hay en cada una de las figuras?

1.



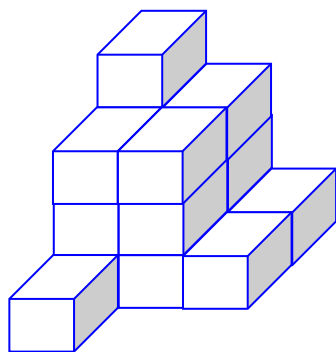
Respuesta:

2.



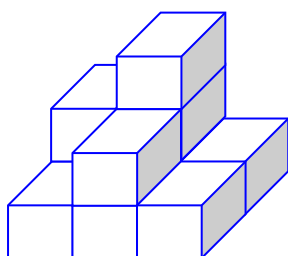
Respuesta:

3.



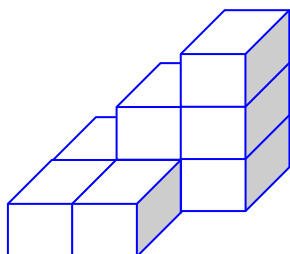
Respuesta:

4.



Respuesta:

5.



Respuesta: