



COMPARO Y ORDENO LOS NUMEROS

Observa:

↓	↓	↓	↓
14	16	15	12

4

6

5

2

Entonces: 14 16

Entonces: 15 12

Se lee: 14 es que 16.

Se lee: 15 es que 12.

Si comparamos dos números del 10 al 19, se debe establecer una comparación sólo con las cifras de las unidades.

Así: $14 < 18$ porque: $4 < 8$.

TRABAJANDO EN EL AULA

1. Completa utilizando la comparación de unidades de :

X 19 y 17 : 9 ○ 7 entonces 19 □ 17

X 15 y 16 : _____ ○ _____ entonces _____ □ _____

X 12 y 11 : _____ ○ _____ entonces _____ □ _____

X 10 y 18 : _____ ○ _____ entonces _____ □ _____

2. Escribe los símbolos <; > o = entre:

X 14

X 11 10

X 8 + 4 13

X 16 10 + 6

X 3 + 7

X 12

X 9 - 2 17

X 15 10 + 4

X 3 + 14 18

X 16 19 + 1

X 14 17 - 3

X 20

3. Escribe los números que faltan para que se cumplan las relaciones en cada caso:

X 14 >

X 13 >

X < 16

X < 19

X 1D 3U =

X 4U 1D =

X < 10

X > 15

X > 1D 8U

X = 1D 2U

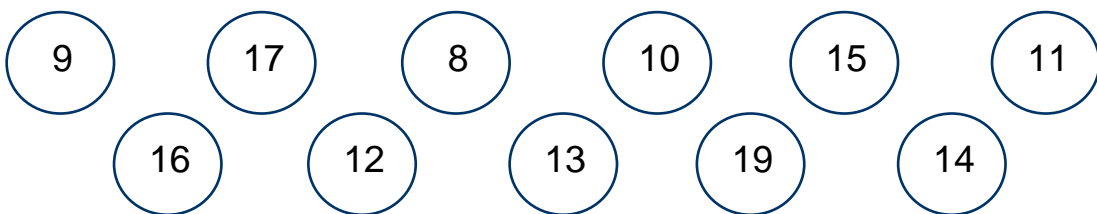
X < 20

X > 11

X > 3U 1D

X = 5U 1D

4. Pinta de verde los números menores que 15.



5. Escribe el número que falta para que se cumpla la relación en cada caso:

X 14 < < 16

X 13 < < 15

X 11 < < 13

X 17 < < 19


X 16 < < 18


X 12 < < 14

6. Cuáles son los números que deben ir en el recuadro:

X 16 < < 20


X 11 > > 7



..... ; ;


..... ; ;

X 17 > > 13


X 9 < < 13



..... ; ;


..... ; ;

X 13 > > 17

X 4 < < 8

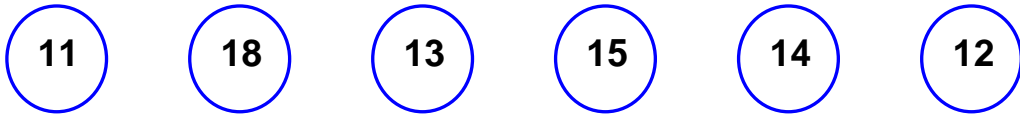

..... ; ;


..... ; ;

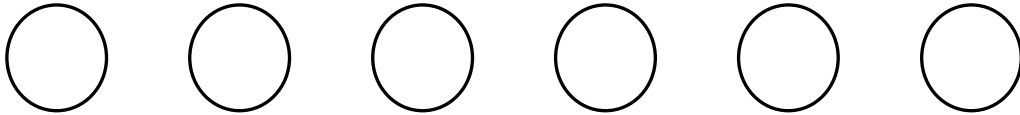
7. Completa el cuadro :

0		2			5	
7			10			
	15			18		20

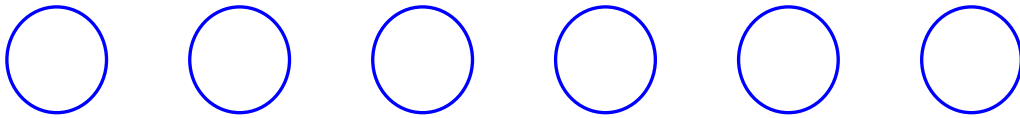
8. Ordena los números en forma:



ascendente:



descendente:



9. Escribe el número anterior y posterior de :



TAREA PARA MI...

1. Escribe los símbolos $>$; $<$ o $=$ en el

X 13 11


X 12 19

X 4U 1D 14

X 1D 7U 1D 3U



2. Pinta de azul los números mayores que 13.



3. Escribe los números mayores que 9 y menores que 14.

4. Escribe el antecesor y el sucesor de :

X ; 18 ;

X ; 12 ;

X ; 16 ;

X ; 15 ;

X ; 17 ;

5. Marca con una los números que van en el recuadro para que se cumpla cada una de las relaciones:

$$X \quad 12 < \quad \square \quad X \quad 16 > \quad \square$$

18

9

12

17

16

19

11

13