



COMPARACION Y ORDENAMIENTO

Números Naturales Menores que 60

Escribe los símbolos $<$; $>$ o $=$ en un círculo.

• 36 41

• $30 + 9$ 39


• 47 50

• 56 49

• 46 52

• 48 $40 + 8$

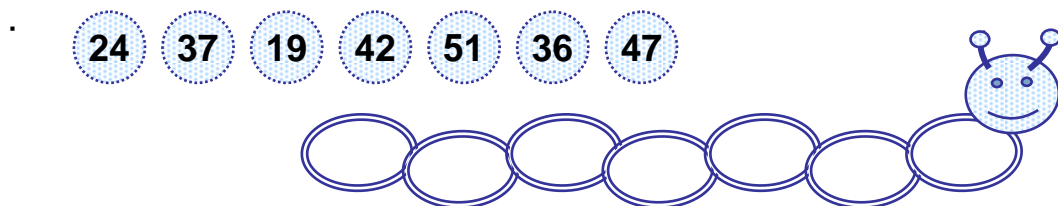
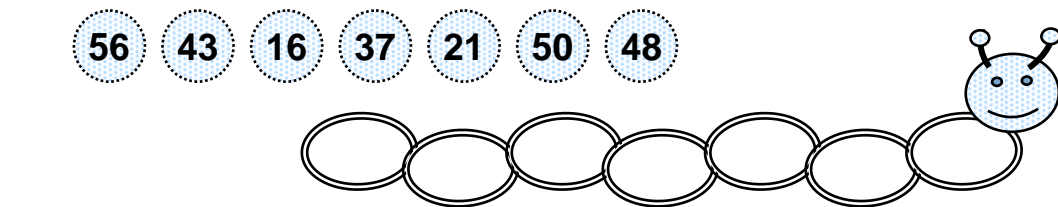
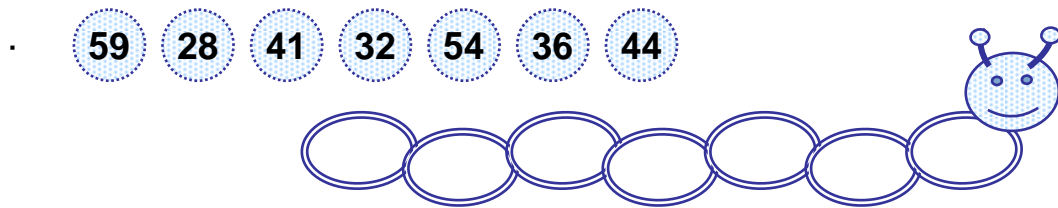
Ordena los números en forma decreciente.



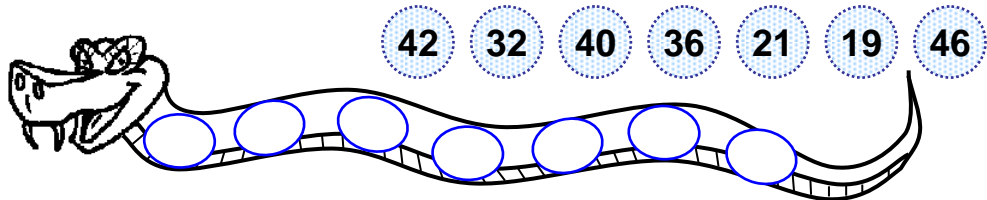
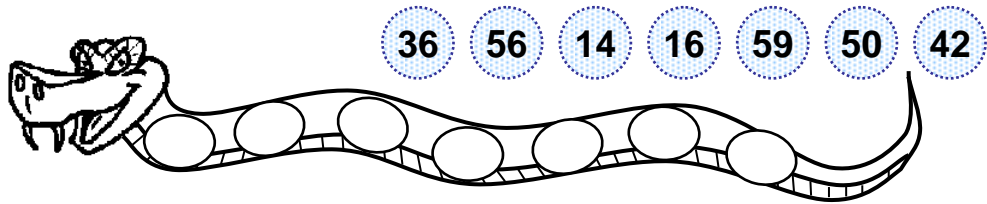
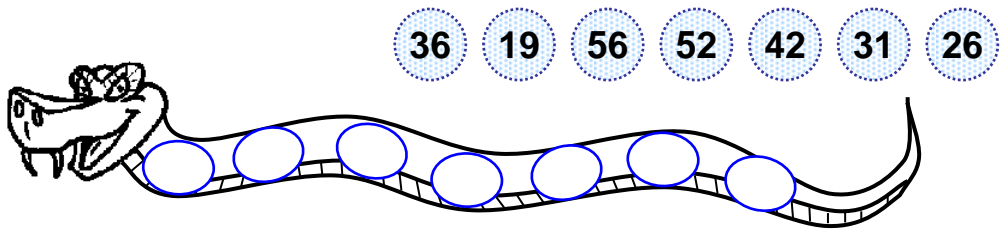
--	--	--	--	--	--	--	--

TRABAJANDO EN EL AULA

1. Escribe los números en orden creciente.



2. Ordena los números en orden decreciente:



3. Escribe el número anterior al número indicado:

- 26
- 42
- 52
- 49
- 19
- 27
- 35
- 53

4. Escribe el número posterior al número indicado.

- 19 ;
- 32 ;
- 53 ;
- 38 ;
- 24 ;
- 41 ;
- 40 ;
- 26 ;

5. Escribe los símbolos > , < o = según corresponda.

- 36 47
- 38 31
- 42 49
- 49 25
- 48 48
- 26 26
- 30 30
- 36 21
- 16 39
- 42 55
- 43 19
- 53 41

TAREA PARA MI...

1. Escribe los números que deben ir en los casilleros para que los números estén en orden creciente.

• 41 ; ; 43

• 30 ; ; 32


• 44 ; ; 46

• 20 ; ; 22

• 39 ; ; 41

• 51 ; ; 53

2. Une los números mediante una línea de modo que estén en orden creciente:



3. Escribe los signos > ; < o = en los casilleros.

• 36 47

• 38 31

• 42 49

• 49 25

• 48 48

• 26 26

• 30 30

• 36 21

• 16 39

4. Ordena los números en orden creciente.

