



ANALOGIAS NUMERICAS


1. Halla el número que falta:

$$4 (12) 8$$

$$18 (20) 2$$

$$8 (\quad) 11$$

Solución:




2. Halla el número que falta:

$$14 (8) 6$$

$$21 (9) 12$$

$$30 (\quad) 19$$

Solución:



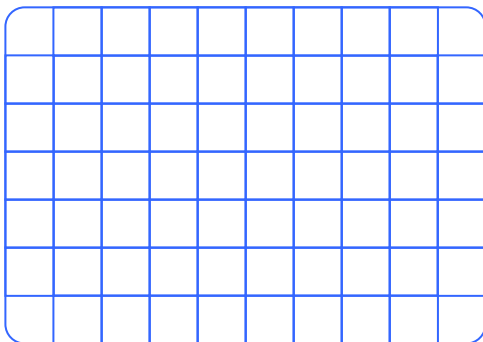
3. Halla el valor de X:

$$10 (5) 6$$

$$11 (10) 2$$

$$22 (\quad) 8$$

Solución:



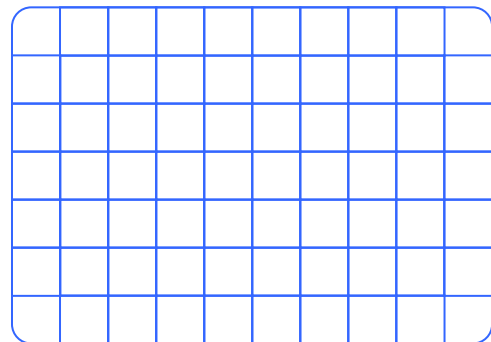
4. El número que falta es:

$$16 (31) 14$$

$$17 (24) 6$$

$$34 (\quad) 8$$

Solución:




5. Halla el número que falta:

$$4 (10) 15$$

$$3 (13) 17$$

$$8 (\quad) 12$$

Solución:




6. Halla el número que falta:

$$10 (5) 4$$

$$12 (6) 5$$

$$13 (\quad) 2$$

Solución:




7. Halla el número que falta:

$$12 (10) 5$$

$$25 (25) 3$$

$$35 (\quad) 4$$

Solución:




8. Halla el número que falta:

$$17 (25) 3$$

$$18 (28) 5$$

$$11 (\quad) 3$$

Solución:




9. Halla el número que falta:

$$19 (4) 13$$

$$10 (6) 2$$

$$13 (\quad) 7$$

Solución:




10. Halla el número que falta:

$$17 (12) 13$$

$$8 (14) 15$$

$$11 (\quad) 3$$

Solución:




TAREA PARA MI...

1. Halla el número que falta:

$$25 (60) 34$$

$$16 (43) 26$$

$$27 (\quad) 19$$



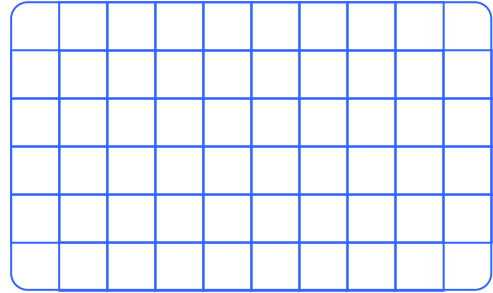
- A) 45 B) 42 C) 46
D) 47 E) 48

2. Halla el número que falta:

$$12 (22) 34$$

$$15 (8) 23$$

$$9 (\quad) 42$$




- A) 30 B) 31 C) 11
D) 15 E) 33

3. Halla el número que falta:

$$18 (6) 13$$

$$28 (8) 21$$

$$64 (\quad) 41$$




- A) 5 B) 24 C) 30
D) 42 E) 50

4. Halla el número que falta:

$$24 (12) 6$$

$$32 (8) 12$$

$$35 (\quad) 24$$



- A) 16 B) 17 C) 10
D) 14 E) 20