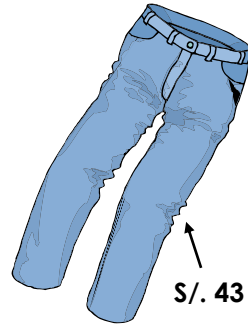
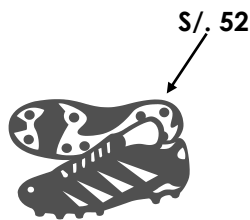
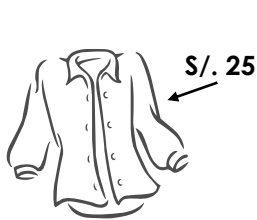




ADICION DE NUMEROS (SIN LLEVAR)

Adición de Números Naturales Menores que 100 (Sin Llevar)

En una tienda encontramos los artículos mostrados con sus respectivos precios en soles.



¿Cuánto costará al comprar una camisa y un pantalón?

- Al comprar la camisa y el pantalón.

D	U
2	5
4	3

Se gastó:

.....

¿Cuál es el valor que resulta al comprar un pantalón y un par de zapatos?

- Al comprar el pantalón y el par de zapatos.

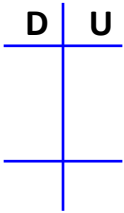
D	U
4	3
5	2

Se gastó:

.....

TRABAJANDO EN EL AULA

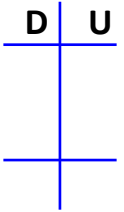
1. • $27 + 42 = \dots\dots\dots$



La suma es:

.....

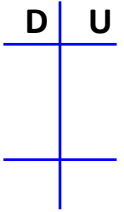
• $16 + 51 = \dots\dots\dots$



La suma es:

.....

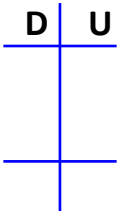
• $74 + 25 = \dots\dots\dots$



La suma es:

.....

• $31 + 46 = \dots\dots\dots$



La suma es:

.....

2. Halla la suma en cada caso:

•

•

•

$$\begin{array}{r} 53 \\ + 22 \\ \hline \end{array}$$

$$\begin{array}{r} 31 \\ + 66 \\ \hline \end{array}$$

$$\begin{array}{r} 82 \\ + 15 \\ \hline \end{array}$$

3. Completa:

$$\begin{array}{r} 50 \\ + \square \square \\ \hline 86 \end{array}$$

$$\begin{array}{r} 23 \\ + 45 \\ \hline \square \square \end{array}$$

$$\begin{array}{r} 61 \\ + 2\square \\ \hline \square 7 \end{array}$$

$$\begin{array}{r} 72 \\ + \square 4 \\ \hline 8\square \end{array}$$

$$\begin{array}{r} \square 3 \\ + 2\square \\ \hline 66 \end{array}$$

$$\begin{array}{r} \square 5 \\ + 23 \\ \hline 7\square \end{array}$$

4. Halla el valor de la suma en línea.

- $52 + 25 = \dots\dots\dots$
- $17 + 71 = \dots\dots\dots$
- $31 + 46 = \dots\dots\dots$
- $62 + 25 = \dots\dots\dots$
- $48 + 30 = \dots\dots\dots$
- $42 + 57 = \dots\dots\dots$

5. Resuelve las operaciones y encuentre la palabra clave.

A	C	E	F	I	L	Q	U
↓	↓	↓	↓	↓	↓	↓	↓
42	39	28	62	43	82	63	18
+ 13	+ 30	+ 21	+ 16	+ 34	+ 15	+ 32	+ 21

95	39	49	78	55	69	77	97

TAREA PARA MI...

1. Halla la suma:

• $\begin{array}{r} 24 \\ + 33 \\ \hline \end{array}$	• $\begin{array}{r} 36 \\ + 51 \\ \hline \end{array}$	• $\begin{array}{r} 52 \\ + 32 \\ \hline \end{array}$
-------------------------------------------------------	-------------------------------------------------------	-------------------------------------------------------








2.- completa.

• $\begin{array}{r} 34 \\ + \square 3 \\ \hline 6 \square \end{array}$	• $\begin{array}{r} \square 6 \\ + 2 \square \\ \hline 87 \end{array}$	• $\begin{array}{r} \square 7 \\ + 6 \square \\ \hline 89 \end{array}$
------------------------------------------------------------------------	------------------------------------------------------------------------	------------------------------------------------------------------------

2. Halla el valor de la suma:

- | | |
|-------------------------------|-------------------------------|
| • $45 + 31 = \dots\dots\dots$ | • $36 + 22 = \dots\dots\dots$ |
| • $61 + 24 = \dots\dots\dots$ | • $41 + 36 = \dots\dots\dots$ |
| • $16 + 61 = \dots\dots\dots$ | • $72 + 24 = \dots\dots\dots$ |

3. Resuelve las operaciones y encuentra la palabra clave.

A	E	G	M	S	T	U
						
46	32	62	42	62	25	47
+ <u>21</u>	+ <u>54</u>	+ <u>17</u>	+ <u>34</u>	+ <u>27</u>	+ <u>62</u>	+ <u>12</u>

76	86	79	59	89	87	67