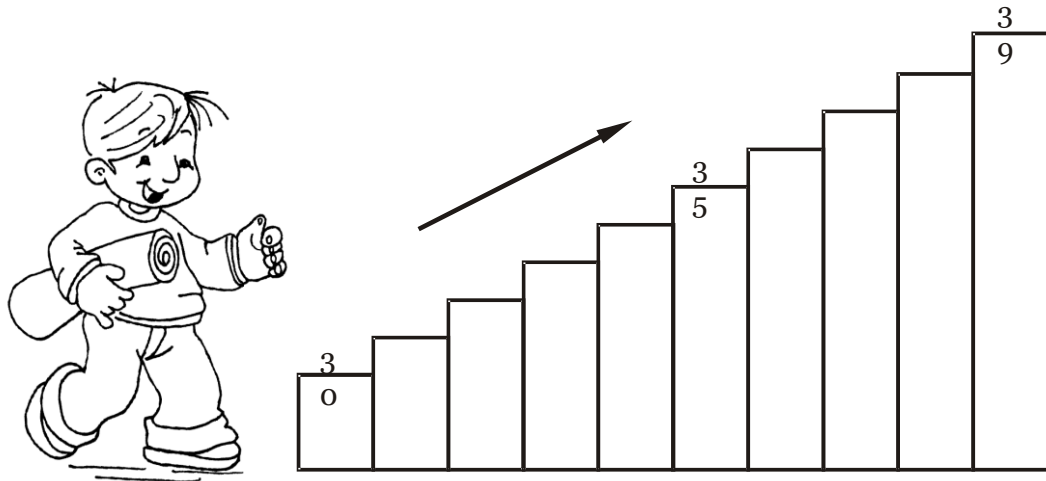


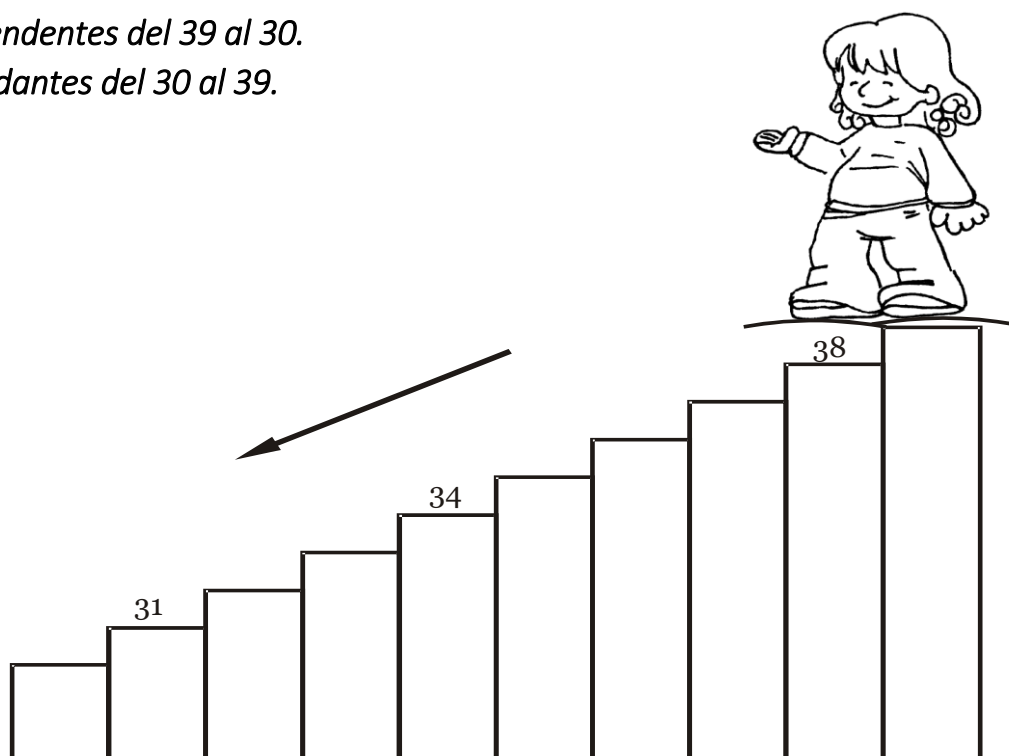
Una escalera de números ascendentes del 30 al 39




UNA ESCALERA DE NÚMEROS

Descendentes del 39 al 30.

Ascendentes del 30 al 39.



Recordando números del 1 al 30



Completa los números que faltan

1			4			7			10
	12			15			18		
21		23			26			29	

RESUELVE

$30 + 3 = \square$

$30 + 8 = \square$

$30 + 5 = \square$

$14 + 7 = \square$

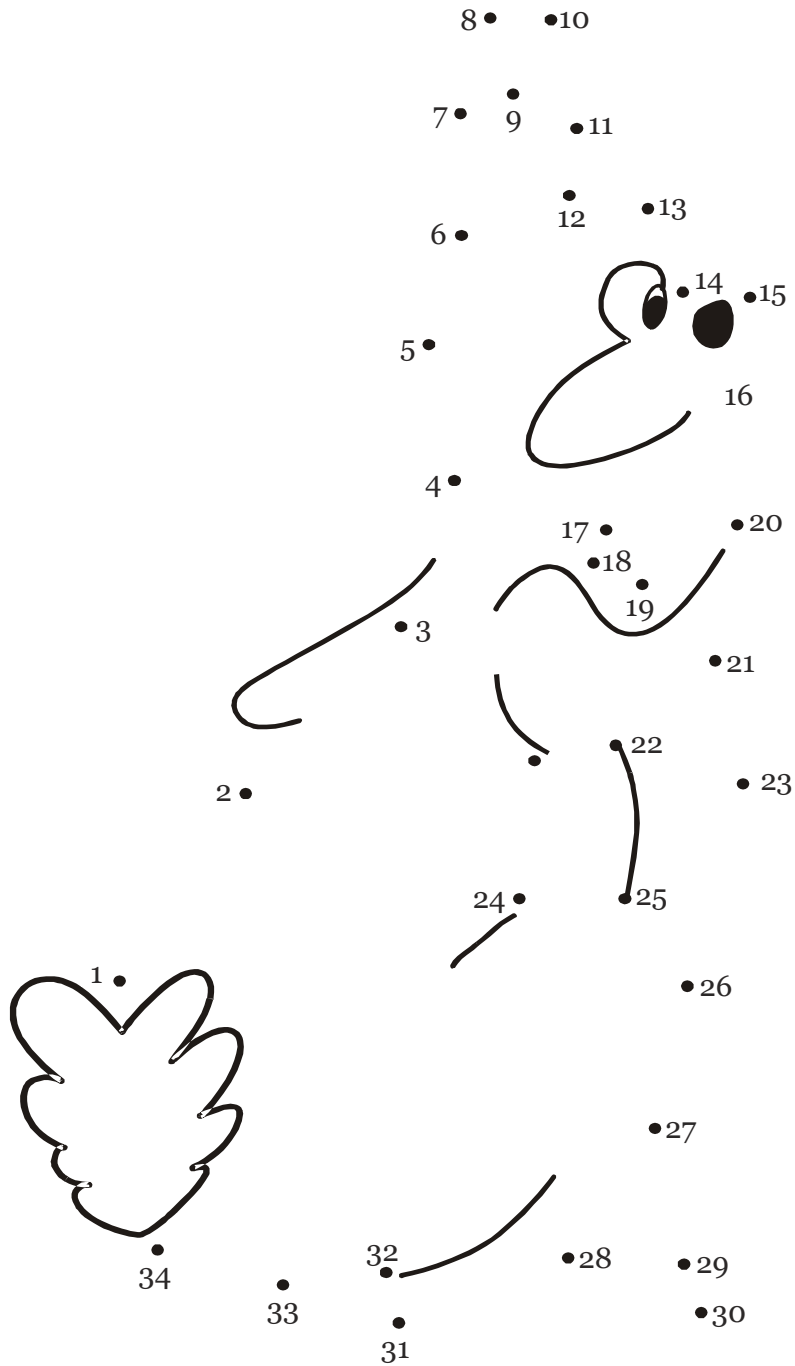
$28 + 4 = \square$

$30 + 9 = \square$

$26 + 5 = \square$

$20 + 8 = \square$

Une los números del 1 al 34 y descubre la imagen.



Representa en forma gráfica los T.V.P. Escribe sus nombres:

D	U
2	5

Se lee:

D	U
1	2

Se lee:

D	U
1	8

Se lee:

D	U
2	7

Se lee:

D	U
3	3

Se lee:

D	U
3	5


Se lee:

D	U
2	9

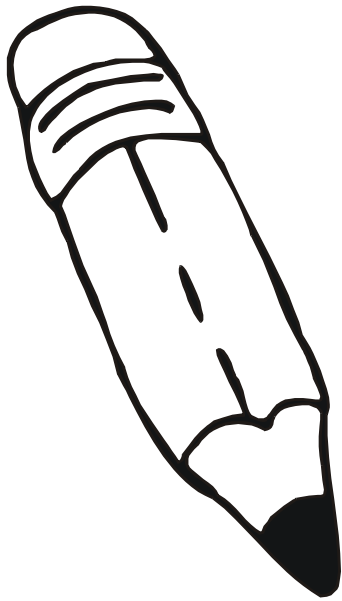
Se lee:

D	U
1	5

Se lee:



Coloca el número anterior y posterior



___ 10 ___

___ 14 ___

___ 23 ___

___ 27 ___

___ 32 ___

___ 39 ___

___ 19 ___

___ 25 ___

___ 36 ___