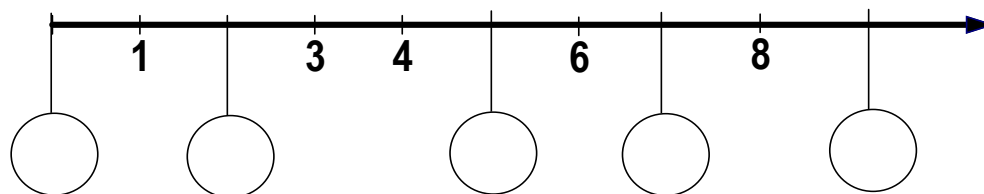
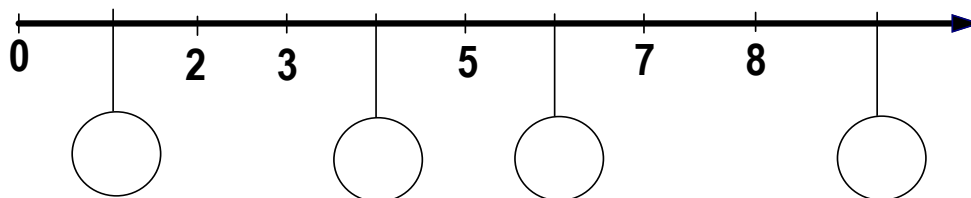
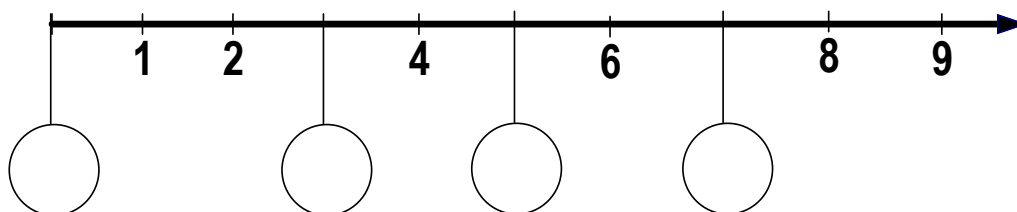
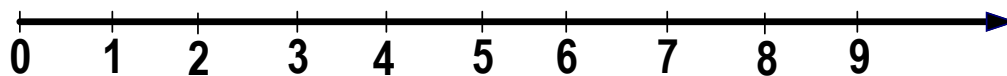


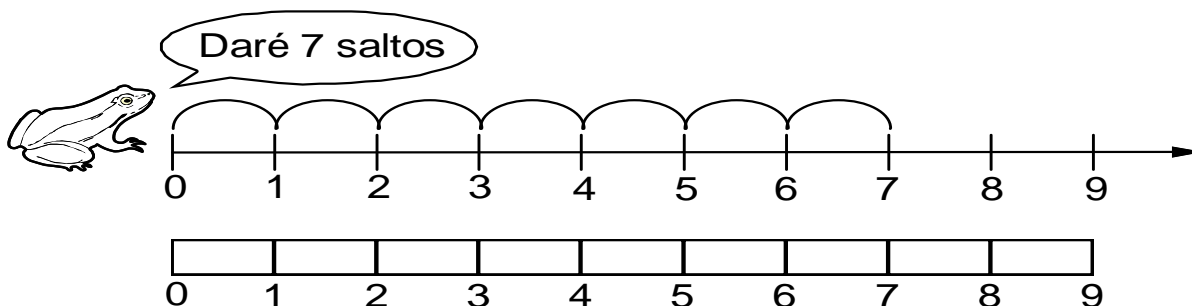


### REPRESENTA EN LA RECTA NUMERICA

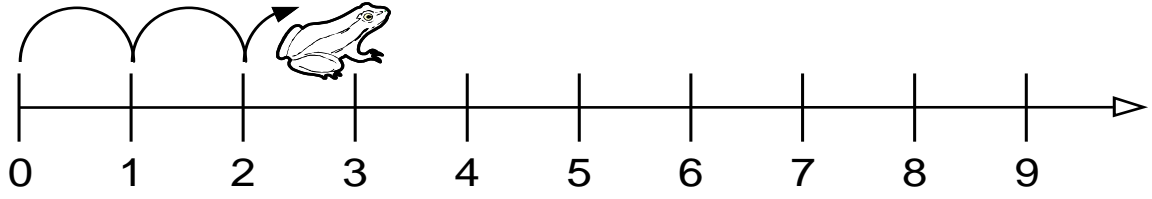
Completa los números que faltan en las rectas numéricas.



Escribe los números en la recta, según su posición natural



Pinta los saltos del sapo.



**TRES** anaranjado



0 1 2 3 4 5 6 7 8 9

**CINCO** verde



0 1 2 3 4 5 6 7 8 9

**OCHO** azul



0 1 2 3 4 5 6 7 8 9

En las siguientes rectas señala los números que se indican:

0; 4; 7; 9



0; 4; 7; 9



0; 4; 7; 9



Realiza tus propias representaciones en la recta numérica.

