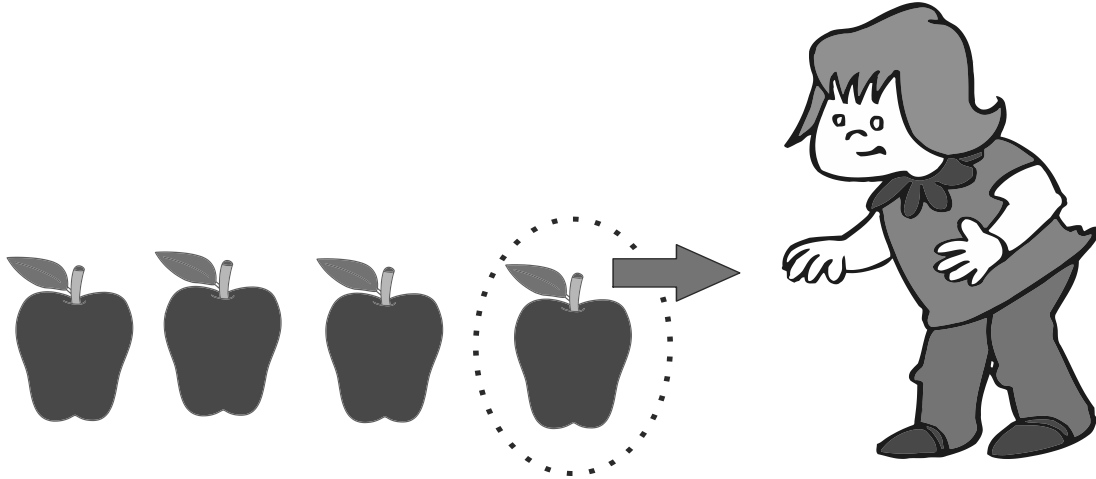


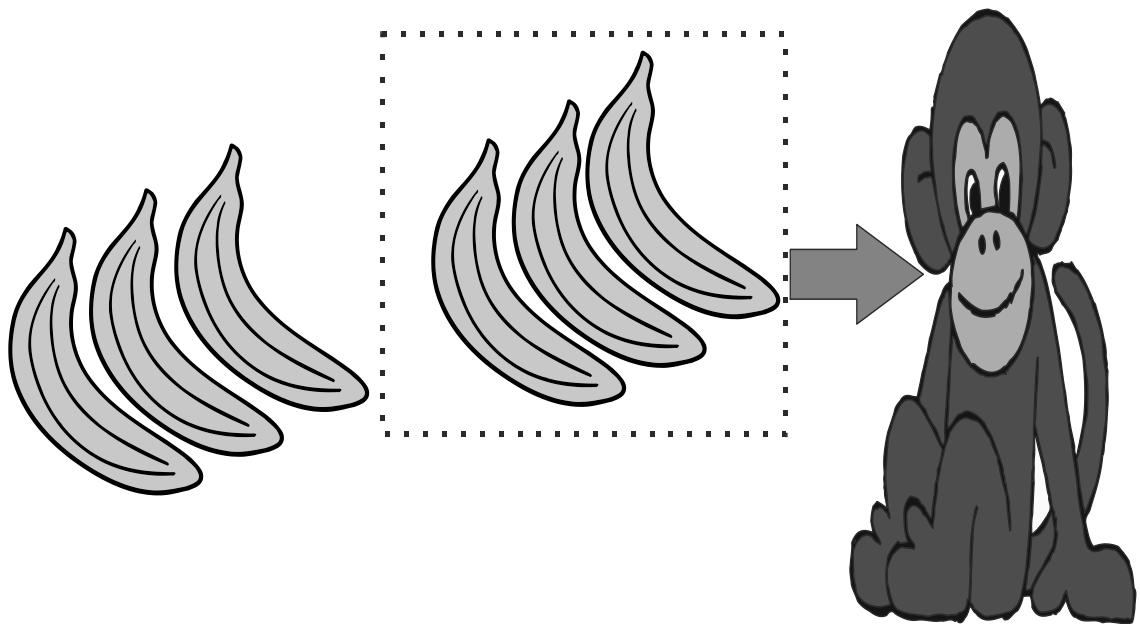


APRENDAMOS LA RESTA



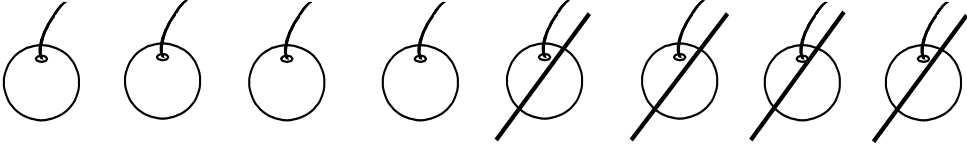

María tiene 4 manzanas y va comer 1 manzana una cuantas queda





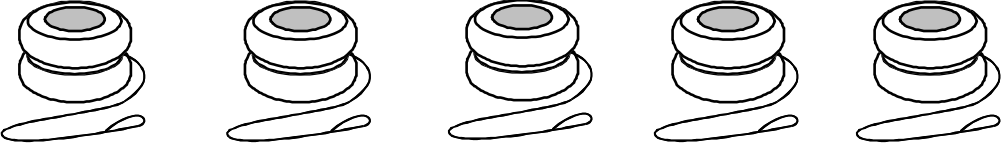
monito tiene 6 plátanos y va comer 3 plátanos una cuantas queda



Escribe en el primer casillero el total, en el segundo escribe los que están marcados y en el tercero los que quedan sin marcar.


$$\boxed{6} - \boxed{2} = \boxed{4}$$

$$\boxed{} - \boxed{} = \boxed{}$$

$$\boxed{} - \boxed{} = \boxed{}$$

$$\boxed{} - \boxed{} = \boxed{}$$

Tarja el número que se indica en cada sustracción. Escribe la diferencia.


$$6 - 3 = \square$$

$$7 - 5 = \square$$

$$5 - 2 = \square$$

Resuelve los siguientes ejemplos:

$$\begin{array}{r} 9 - \\ \underline{4} \end{array}$$

$$\begin{array}{r} 3 - \\ \underline{2} \end{array}$$

$$\begin{array}{r} 6 - \\ \underline{4} \end{array}$$

$$\begin{array}{r} 8 - \\ \underline{4} \end{array}$$

$$\begin{array}{r} 4 - \\ \underline{2} \end{array}$$

$$\begin{array}{r} 7 - \\ \underline{3} \end{array}$$

$$\begin{array}{r} 8 - \\ \underline{3} \end{array}$$

$$\begin{array}{r} 9 - \\ \underline{3} \end{array}$$

$$\begin{array}{r} 8 - \\ \underline{7} \end{array}$$

$$\begin{array}{r} 6 - \\ \underline{0} \end{array}$$

$$\begin{array}{r} 7 - \\ \underline{6} \end{array}$$


$$\begin{array}{r} 6 - \\ \underline{1} \end{array}$$

$$\begin{array}{r} 9 - \\ \underline{8} \end{array}$$


$$\begin{array}{r} 4 - \\ \underline{4} \end{array}$$

$$\begin{array}{r} 8 - \\ \underline{5} \end{array}$$

Resta las operaciones que encuentras en el dibujo luego colorea



Encuentra los resultados de todas las restas, colorea la imagen libremente.



Resuelve las restas de los siguientes ejemplos.

a) $+1$

5	—
1	—
8	—
0	—
3	—
7	—

b) -2

3	—
9	—
7	—
5	—
8	—
2	—

c) $+3$

6	—
1	—
5	—
2	—
3	—
4	—

d) -4

8	—
6	—
4	—
7	—
5	—
9	—

e) $+2$

0	—
7	—
5	—
1	—
6	—
4	—

f) -1

5	—
7	—
4	—
9	—
6	—
8	—

g) $+4$

1	—
3	—
5	—
0	—
2	—
4	—

h) -3

9	—
6	—
3	—
7	—
5	—
4	—

